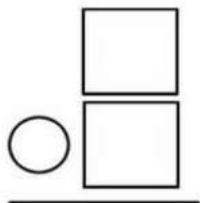
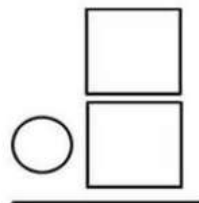
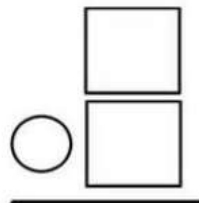
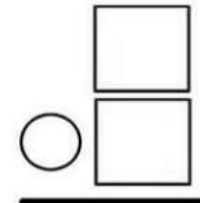
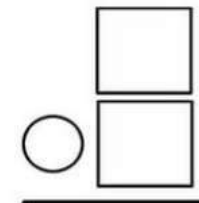
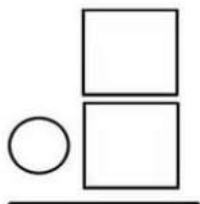
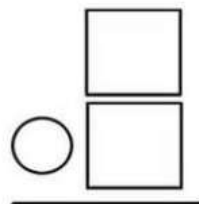
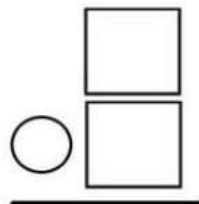
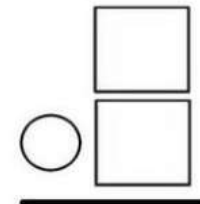
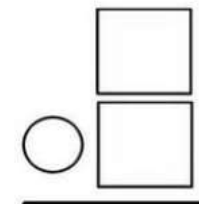










RESTAS SIN LLEVAR

Coloca las operaciones en vertical, una debajo de la otra, con cuidado de poner las unidades debajo de las unidades y las decenas debajo de las decenas, luego haz las cuentas, recorta la pieza y pégala en su lugar correspondiente.

$29 - 17$ 	$38 - 35$ 	$17 - 12$ 	$46 - 22$ 	$55 - 13$ 
$64 - 24$ 	$73 - 21$ 	$89 - 11$ 	$90 - 60$ 	$47 - 14$ 

©JMDRS



 78	 52	 40	42	 30
 5	 3	12	 33	 24




ERRORES EN SERIES NUMÉRICAS

Nombre y apellidos:

Curso:

Fecha:

Detecta en las siguientes series numéricas el error y señálalo.



Cálculo mental Cálculo mental Cálculo mental

Escribe el resultado

$2 + 5 =$ ___	$2 + 3 =$ ___	$9 + 4 =$ ___
$3 + 3 =$ ___	$5 + 3 =$ ___	$9 + 3 =$ ___
$9 + 9 =$ ___	$6 + 3 =$ ___	$8 + 2 =$ ___
$6 + 6 =$ ___	$7 + 3 =$ ___	$8 + 4 =$ ___
$4 + 1 =$ ___	$2 + 8 =$ ___	$7 + 5 =$ ___



$8 + 2 =$ ___	$1 + 13 =$ ___	$7 + 7 =$ ___
$8 + 3 =$ ___	$4 + 10 =$ ___	$8 + 8 =$ ___
$9 + 5 =$ ___	$16 + 2 =$ ___	$9 + 9 =$ ___
$8 + 9 =$ ___	$17 + 1 =$ ___	$10 + 2 =$ ___
$7 + 9 =$ ___	$18 + 1 =$ ___	$11 + 3 =$ ___



$9 - 9 =$ ___	$6 - 5 =$ ___	$6 - 5 =$ ___	$4 - 3 =$ ___
$9 - 1 =$ ___	$8 - 7 =$ ___	$6 - 0 =$ ___	$9 - 7 =$ ___
$7 - 0 =$ ___	$9 - 6 =$ ___	$6 - 6 =$ ___	$9 - 8 =$ ___
$6 - 4 =$ ___	$8 - 0 =$ ___	$2 - 2 =$ ___	$5 - 2 =$ ___
$6 - 3 =$ ___	$5 - 4 =$ ___	$7 - 4 =$ ___	$3 - 1 =$ ___