

Nombre:

Fecha:

1) Relaciona cada cartel con la cesta que corresponda.

Alguna naranja

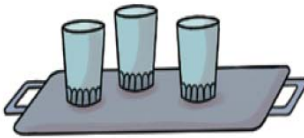
Ninguna manzana

Ninguna pera

Alguna pera



2) Dibuja dos vasos en la bandeja que no tiene ningún vaso.



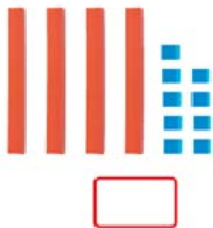
3) Dibuja los balones que hagan falta o tacha los que sobren para que todos los niños tengan 5 balones.



4) Señala en qué recuadro hay más piezas del puzle.



5) Escribe los números que corresponden a cada representación. ¿Cuál es el mayor? Rodea.



6) ¿Cuál es el número mayor? Escríbelo:

43 33 38 47 40 46 35


Ahora ordena los números de menor a mayor, usa el signo correspondiente (> o <)

.....


7) Observa y escribe los números en el tren que corresponda.

76 70 67 57 79 27 37 74

Tienen la cifra 7
en las decenas.



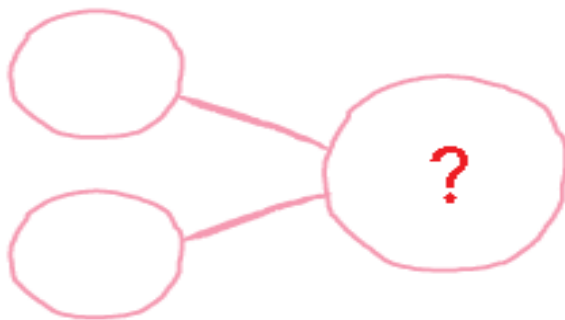
Tienen la cifra 7
en las unidades.



8) Rodea los números en los que la cifra 2 valga 20 unidades.

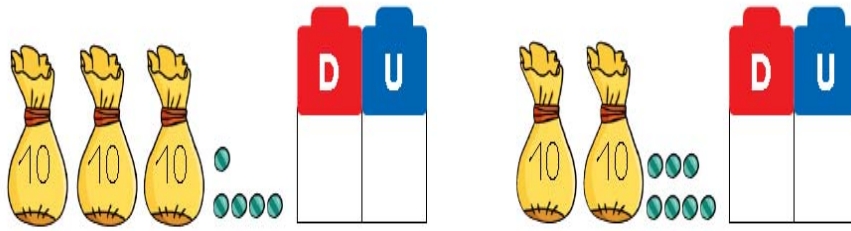


9) En clase de baile había 24 estudiantes y ahora se han apuntado 15 más.
¿Cuántos estudiantes hay ahora en total?



+ =

10) ¿Cuántas canicas hay? Completa.



$$\square + \square = \square$$

$$\square + \square = \square$$

11) Calcula:

$16 + 21 =$

$43 - 21 =$

$14 + 15 =$

$27 - 14 =$

$26 + 23 =$

$56 - 23 =$

$42 + 17 =$

$19 - 7 =$

12) Escribe de dos en dos hasta el número 60.

2- 4-