

NOMBRE: FECHA:

1. Rodea en cada número las cifras de las unidades:

Ejemplo: 4 (9) El número 49 termina en 9.

35 47 54 26 80 71 92 24 13

2. Ahora haz dos grupos con los números anteriores:

Terminan en 0-2-4-6-8	Terminan en 1-3-5-7-9

3. Copia y aprende:

Los números que terminan en 0-2-4-6-8 son números pares.

.....
.....

Los números que terminan en 1-3-5-7-9 son números impares.

.....
.....

4. Rodea los números pares:

46	73	29	94	51	32
28	14	35	89	40	
72	67	84	96	43	21

5. Completa y escribe.

83 $\begin{cases} \nearrow = \square \text{ D} + \square \text{ U} \\ \searrow = \square + \square \end{cases}$ \triangleright


65 $\begin{cases} \nearrow = \square \text{ D} + \square \text{ U} \\ \searrow = \square + \square \end{cases}$ \triangleright

72 $\begin{cases} \nearrow = \square \text{ D} + \square \text{ U} \\ \searrow = \square + \square \end{cases}$ \triangleright


6. Escribe el número anterior y el número posterior.

<input type="text"/> \blacktriangleleft 69 \blacktriangleright <input type="text"/>	<input type="text"/> \blacktriangleleft 40 \blacktriangleright <input type="text"/>	<input type="text"/> \blacktriangleleft 37 \blacktriangleright <input type="text"/>
<input type="text"/> \blacktriangleleft 90 \blacktriangleright <input type="text"/>	<input type="text"/> \blacktriangleleft 79 \blacktriangleright <input type="text"/>	<input type="text"/> \blacktriangleleft 58 \blacktriangleright <input type="text"/>

7. Ordena como se indica.



<input type="text"/>	<input type="text"/>	<input type="text"/>	<input type="text"/>
----------------------	----------------------	----------------------	----------------------



--	--	--	--

8. Coloca los signos $>$ o $<$:

$18 \bigcirc 9$

$24 \bigcirc 17$

$5 \bigcirc 50$

$36 \bigcirc 40$

$78 \bigcirc 49$

$24 \bigcirc 27$

$56 \bigcirc 60$

$54 \bigcirc 46$

$83 \bigcirc 47$


9. En la piscina hay 23 personas. En el gimnasio hay 12 personas más que en la piscina.
¿Cuántas personas hay en el gimnasio?



□
○ □
□

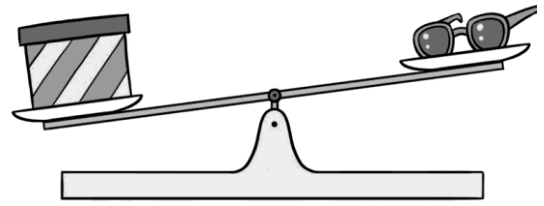
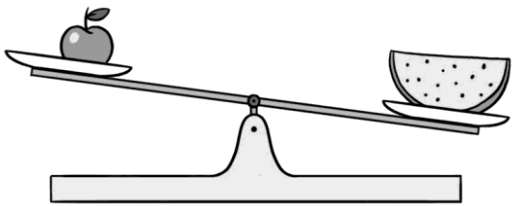
Solución:

10. María necesita 95 nueces para hacer unos bizcochos. En casa sólo tiene 30. ¿Cuántas nueces le faltan?



Solución: Le faltan nueces.

11. Rodea el objeto que pesa más de cada balanza.



12. Completa con el día de la semana que corresponde.

Ayer

Hoy


Mañana

	lunes	
viernes		
		jueves
miércoles		

13. Recuerda los meses del año y cópialos.

Enero	
Febrero	
Marzo	
Abril	
Mayo	
Junio	
Julio	
Agosto	
Septiembre	
Octubre	
Noviembre	
Diciembre	

14. En el gimnasio hay 24 aros rojos y 38 aros verdes. ¿ Cuántos aros hay en total?



	<input type="text"/>
<input type="text"/>	<input type="text"/>
<hr/>	
	<input type="text"/>

Solución:
