











FICHA 4

Un grupo de personas de distintas nacionalidades están en Villanubla de vacaciones. Ante la situación de Alerta por Coronavirus en España han decidido regresar a sus países de origen.

Fíjate a qué hora sale el avión y calcula sobre qué hora llegarán a sus países.

EL AEROPUERTO

Estas son las horas de salida de los vuelos que salen desde Villanubla hasta estas ciudades europeas. Completa la tabla con la información que falta:

CIUDAD	MILÁN	PARIS	BRUSELAS	LISBOA	LONDRES
HORA SALIDA	14:45	16:15	8:05	11:25	21:20
DURACIÓN VUELO	1 hora y 05 minutos	1 hora y cuarto	2 horas	50 minutos	80 minutos
HORA LLEGADA					
RELOJ SALIDA					
RELOJ LLEGADA					

Una familia de 4 miembros han gastado en los 4 billetes de avión 1280 euros y en el hotel con pensión completa 62 euros por día cada uno. Si han estado una semana, ¿cuánto ha gastado cada uno en total?

DATOS

OPERACIONES

SOLUCIÓN

Una pareja gastó en el viaje 645 euros. 315 euros lo gastaron en el hotel y el resto en el avión. ¿A cuánto le salió el billete a cada uno?

DATOS

OPERACIONES

SOLUCIÓN

Una familia gastó 945 euros en excursiones. Si hicieron 5 excursiones, ¿a cuánto les salió cada excursión?

DATOS

OPERACIONES

SOLUCIÓN

A un grupo de 25 personas del Inerso les tocó 42.325 euros en la primitiva y decidieron hacer este viaje a Villanubla. ¿Cuánto dinero tiene cada uno para gastar? Y si el viaje les sale a 950 euros ¿cuánto les queda?

DATOS

OPERACIONES

SOLUCIÓN