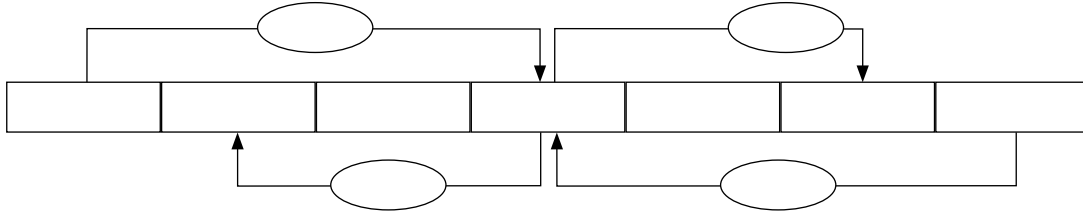


Nombre _____ Fecha _____


1 Completa con las unidades de masa y las operaciones necesarias.




2 Expresa en la unidad indicada.

- 0,05 kg = _____ dg
- 3,75 hg = _____ dag
- 56,3 dag = _____ dg
- 714 g = _____ cg
- 276 dg = _____ mg
- 25.000 cg = _____ dag
- 1,5 dag = _____ kg
- 7.800 dg = _____ g
- 98,6 mg = _____ dg
- 9.550 g = _____ hg

3 Expresa en kilogramos la carga de cada camión.





REPASA ESTA INFORMACIÓN. Después, corrige tus actividades.

