



NOME: _____


Actividade 1


Mira na táboa que números faltan. Logo escribe en cada debuxo o número correspondente. Por último escribe cales son os veciños.


0	1		3	4	5	6	7	8	
10	11	12	13	14	15	16		18	19
20	21	22	23		25	26	27	28	29
30		32	33	34	35	36		38	39
40	41	42		44	45	46	47		49
50	51	52	53	54		56	57	58	


 =


 =


 =


 =


 =






 =

 =

 =

 =

 =

ESCRIBE O VECIÑO DE CADA NÚMERO


NOME: _____

Actividade 2



$$\square + \square = \square$$

$$\square + \square = \square$$



$$\square + \square = \square$$

$$\square + \square = \square$$



$$\square + \square = \square$$

Debuxa pinzas con dúas cores diferentes en cada percha, para facer descomposicións diferentes do número 10.



NOME: _____

Actividade 3





12



11



19



A que número chega o golfiño despois de dar os seus saltos?

Na última, tira o dado para saber de que número sae o golfiño e logo volve a tiralo para saber cantos saltos ten que dar. Debuxa e completa.

NOME: _____

Actividade 4



$$4 + \underline{\quad} = 10$$



$$\underline{\quad} + 5 = 10$$



$$1 + \underline{\quad} = 10$$



$$\underline{\quad} + 8 = 10$$

Completa as camisetas para formar os amigos do 10. Logo completa as sumas inferiores. Colorea.