







Dibuja el camino empezando por el 1 y acabando por el 100, contando de uno en uno.

			1	2	3	24	25	26	
			10	9	4	23	22	27	28
			11	8	5	20	21	30	29
49	48	47	12	7	6	19	18	31	32
50	51	46	13	14	15	16	17	34	33
53	52	45	44	43	42	41	40	35	36
54	55	56	89	90	91	92	39	38	37
63	62	57	88	87	86	93	96	97	98
64	61	58	83	84	85	94	95	100	99
65	60	59	82	81	78	77			
66	67	70	71	80	79	76			
	68	69	72	73	74	75			

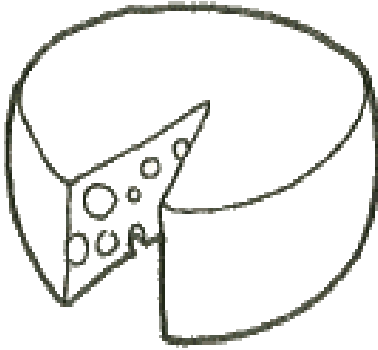

Dibuja el camino empezando por el 1 y acabando por el 100, contando de uno en uno.

60	59	58	57					8	9
61	62	63	56				6	7	10
70	69	64	55				5	4	11
71	68	65	54	51	50	1	2	3	12
72	67	66	53	52	49	16	15	14	13
73	74	75	78	79	48	17	18	21	22
86	85	76	77	80	47	46	19	20	23
87	84	83	82	81	44	45	26	25	24
88	89	98	99	100	43	42	27	28	29
91	90	97				41	40	31	30
92	95	96				38	39	32	33
93	94					37	36	35	34

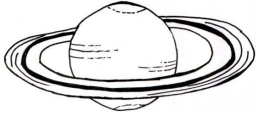
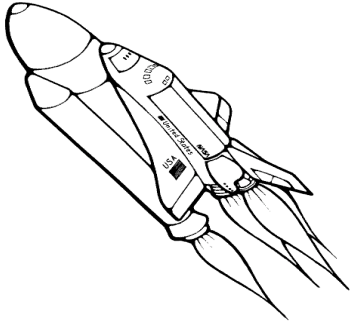
Dibuja el camino empezando por el 1 y acabando por el 100, contando de uno en uno.

			1	2	3	4	9	10	
			34	33	32	5	8	11	12
			35	36	31	6	7	14	13
57	56	39	38	37	30	21	20	15	16
58	55	40	41	42	29	22	19	18	17
59	54	53	52	43	28	23	24	95	96
60	63	64	51	44	27	26	25	94	97
61	62	65	50	45	88	89	92	93	98
70	69	66	49	46	87	90	91	100	99
71	68	67	48	47	86	85			
72	73	76	77	80	81	84			
	74	75	78	79	82	83			



Dibuja el camino empezando por el 1 y acabando por el 100, contando de uno en uno.

7	6	3	2					65	66	
8	5	4	1				63	64	67	
9	10	19	20				62	61	68	
12	11	18	21	22	53	54	59	60	69	
13	16	17	24	23	52	55	58	71	70	
14	15	26	25	50	51	56	57	72	73	
33	32	27	28	49	82	81	80	79	74	
34	31	30	29	48	83	84	85	78	75	
35	36	45	46	47	100	99	86	77	76	
38	37	44					98	87	90	91
39	42	43					97	88	89	92
40	41						96	95	94	93



Dibuja el camino empezando por el 1 y acabando por el 100, contando de uno en uno.

			1	2	3	4	9	10	
			26	25	24	5	8	11	12
			27	28	23	6	7	14	13
51	50	33	32	29	22	21	20	15	16
52	49	34	31	30	39	40	19	18	17
53	48	35	36	37	38	41	94	95	96
54	47	46	45	44	43	42	93	92	97
55	56	57	82	83	86	87	90	91	98
62	61	58	81	84	85	88	89	100	99
63	60	59	80	79	76	75			
64	65	68	69	78	77	74			
	66	67	70	71	72	73			



Dibuja el camino empezando por el 1 y acabando por el 100, contando de uno en uno.

63	64	71	72	73	98	99			
62	65	70	69	74	97	100			
61	66	67	68	75	96				
60	59	78	77	76	95	94	93	92	91
57	58	79	80	81	82	83	86	87	90
56	55	54	53	40	39	84	85	88	89
49	50	51	52	41	38	37	36	35	34
48	45	44	43	42	19	20	21	32	33
47	46		6	7	18	17	22	31	30
			5	8	9	16	23	24	29
			4	3	10	15	14	25	28
			1	2	11	12	13	26	27

Dibuja el camino empezando por el 1 y acabando por el 100, contando de uno en uno.


88	89	92	93	96	97	100			
87	90	91	94	95	98	99			
86	83	82	81	80	79				
85	84	15	16	77	78	71	70	67	66
12	13	14	17	76	73	72	69	68	65
11	10	9	18	75	74	29	30	63	64
4	5	8	19	26	27	28	31	62	61
3	6	7	20	25	24	33	32	59	60
2	1		21	22	23	34	35	58	57
			40	39	38	37	36	55	56
			41	44	45	48	49	54	53
			42	43	46	47	50	51	52

Dibuja el camino empezando por el 1 y acabando por el 100, contando de uno en uno.



88	89	92	93	96	97	100			
87	90	91	94	95	98	99			
86	83	82	81	80	79				
85	84	15	16	77	78	71	70	67	66
12	13	14	17	76	73	72	69	68	65
11	10	9	18	75	74	29	30	63	64
4	5	8	19	26	27	28	31	62	61
3	6	7	20	25	24	33	32	59	60
2	1		21	22	23	34	35	58	57
			40	39	38	37	36	55	56
			41	44	45	48	49	54	53
			42	43	46	47	50	51	52




Dibuja el camino empezando por el 1 y acabando por el 100, contando de uno en uno.

Aa			1	2	3	4	9	10	
			34	33	32	5	8	11	12
			35	36	31	6	7	14	13
57	56	39	38	37	30	21	20	15	16
58	55	40	41	42	29	22	19	18	17
59	54	53	52	43	28	23	24	95	96
60	63	64	51	44	27	26	25	94	97
61	62	65	50	45	88	89	92	93	98
70	69	66	49	46	87	90	91	100	99
71	68	67	48	47	86	85			
72	73	76	77	80	81	84			
	74	75	78	79	82	83			

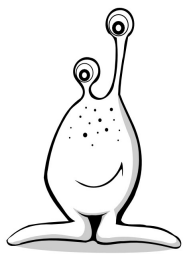

Dibuja el camino empezando por el 1 y acabando por el 100, contando de uno en uno.

7	6	3	2					65	66
8	5	4	1				63	64	67
9	10	19	20				62	61	68
12	11	18	21	22	53	54	59	60	69
13	16	17	24	23	52	55	58	71	70
14	15	26	25	50	51	56	57	72	73
33	32	27	28	49	82	81	80	79	74
34	31	30	29	48	83	84	85	78	75
35	36	45	46	47	100	99	86	77	76
38	37	44				98	87	90	91
39	42	43				97	88	89	92
40	41					96	95	94	93


Dibuja el camino empezando por el 1 y acabando por el 100, contando de uno en uno.

87	88	89	92	93	98	99	Bb		
86	85	90	91	94	97	100			
83	84	79	78	95	96				
82	81	80	77	76	75	74	73	70	69
55	56	57	60	61	62	63	72	71	68
54	53	58	59	42	41	64	65	66	67
51	52	45	44	43	40	39	36	35	34
50	47	46	9	10	11	38	37	32	33
49	48		8	13	12	17	18	31	30
			7	14	15	16	19	28	29
			6	5	4	21	20	27	26
			1	2	3	22	23	24	25



Dibuja el camino empezando por el 1 y acabando por el 100, contando de uno en uno.

87	88	89	90	97	98	99			
86	85	84	91	96	95	100			
79	80	83	92	93	94				
78	81	82	71	70	69	62	61	58	57
77	76	75	72	67	68	63	60	59	56
10	11	74	73	66	65	64	53	54	55
9	12	13	14	15	16	51	52	47	46
8	5	4	3	18	17	50	49	48	45
7	6		2	19	28	29	30	31	44
			1	20	27	36	35	32	43
			22	21	26	37	34	33	42
			23	24	25	38	39	40	41



Dibuja el camino empezando por el 1 y acabando por el 100, contando de uno en uno.

83	84	85	86	97	98	99	Ff		
82	89	88	87	96	95	100			
81	90	91	92	93	94				
80	79	72	71	70	63	62	61	54	53
77	78	73	68	69	64	59	60	55	52
76	75	74	67	66	65	58	57	56	51
5	6	7	10	11	12	45	46	47	50
4	3	8	9	14	13	44	43	48	49
1	2		16	15	24	25	42	41	40
			17	22	23	26	33	34	39
			18	21	28	27	32	35	38
			19	20	29	30	31	36	37



Dibuja el camino empezando por el 1 y acabando por el 100, contando de uno en uno.

12	11	8	7					44	45
13	10	9	6				42	43	46
14	15	16	5				41	40	47
21	20	17	4	1	36	37	38	39	48
22	19	18	3	2	35	58	57	50	49
23	30	31	32	33	34	59	56	51	52
24	29	28	87	86	85	60	55	54	53
25	26	27	88	83	84	61	62	65	66
94	93	90	89	82	81	80	63	64	67
95	92	91				79	78	77	68
96	99	100				74	75	76	69
97	98					73	72	71	70

Dibuja el camino empezando por el 1 y acabando por el 100, contando de uno en uno.



88	89	92	93	96	97	100			
87	90	91	94	95	98	99			
86	83	82	81	80	79				
85	84	15	16	77	78	71	70	67	66
12	13	14	17	76	73	72	69	68	65
11	10	9	18	75	74	29	30	63	64
4	5	8	19	26	27	28	31	62	61
3	6	7	20	25	24	33	32	59	60
2	1		21	22	23	34	35	58	57
			40	39	38	37	36	55	56
			41	44	45	48	49	54	53
			42	43	46	47	50	51	52

Dibuja el camino empezando por el 1 y acabando por el 100, contando de uno en uno.



			1	2	3	24	25	26	
			10	9	4	23	22	27	28
			11	8	5	20	21	30	29
49	48	47	12	7	6	19	18	31	32
50	51	46	13	14	15	16	17	34	33
53	52	45	44	43	42	41	40	35	36
54	55	56	89	90	91	92	39	38	37
63	62	57	88	87	86	93	96	97	98
64	61	58	83	84	85	94	95	100	99
65	60	59	82	81	78	77			
66	67	70	71	80	79	76			
	68	69	72	73	74	75			





Dibuja el camino empezando por el 1 y acabando por el 100, contando de uno en uno.

12	11	8	7					44	45
13	10	9	6				42	43	46
14	15	16	5				41	40	47
21	20	17	4	1	36	37	38	39	48
22	19	18	3	2	35	58	57	50	49
23	30	31	32	33	34	59	56	51	52
24	29	28	87	86	85	60	55	54	53
25	26	27	88	83	84	61	62	65	66
94	93	90	89	82	81	80	63	64	67
95	92	91				79	78	77	68
96	99	100				74	75	76	69
97	98					73	72	71	70



Dibuja el camino empezando por el 1 y acabando por el 100, contando de uno en uno.

			1	2	3	4	9	10	
			26	25	24	5	8	11	12
			27	28	23	6	7	14	13
51	50	33	32	29	22	21	20	15	16
52	49	34	31	30	39	40	19	18	17
53	48	35	36	37	38	41	94	95	96
54	47	46	45	44	43	42	93	92	97
55	56	57	82	83	86	87	90	91	98
62	61	58	81	84	85	88	89	100	99
63	60	59	80	79	76	75			
64	65	68	69	78	77	74			
	66	67	70	71	72	73			



Dibuja el camino empezando por el 1 y acabando por el 100, contando de uno en uno.

			3	4	5	82	83	84	
			2	7	6	81	80	85	86
			1	8	73	74	79	88	87
19	18	13	12	9	72	75	78	89	90
20	17	14	11	10	71	76	77	92	91
21	16	15	28	29	70	65	64	93	94
22	25	26	27	30	69	66	63	96	95
23	24	37	36	31	68	67	62	97	98
42	41	38	35	32	59	60	61	100	99
43	40	39	34	33	58	57			
44	45	48	49	52	53	56			
	46	47	50	51	54	55			



Dibuja el camino empezando por el 1 y acabando por el 100, contando de uno en uno.

83	84	85	86	97	98	99			
82	89	88	87	96	95	100			
81	90	91	92	93	94				
80	79	72	71	70	63	62	61	54	53
77	78	73	68	69	64	59	60	55	52
76	75	74	67	66	65	58	57	56	51
5	6	7	10	11	12	45	46	47	50
4	3	8	9	14	13	44	43	48	49
1	2		16	15	24	25	42	41	40
			17	22	23	26	33	34	39
			18	21	28	27	32	35	38
			19	20	29	30	31	36	37



Dibuja el camino empezando por el 2 y acabando por el 200, contando de dos en dos.

			128	130	136	138	144	146	
			126	132	134	140	142	148	150
			124	122	120	118	156	154	152
4	2	16	18	108	110	116	158	160	162
6	12	14	20	106	112	114	168	166	164
8	10	24	22	104	174	172	170	192	194
38	36	26	28	102	176	178	180	190	196
40	34	32	30	100	98	96	182	188	198
42	60	62	64	66	68	94	184	186	200
44	58	56	74	72	70	92			
46	48	54	76	82	84	90			
	50	52	78	80	86	88			



Dibuja el camino empezando por el 2 y acabando por el 200, contando de dos en dos.

			2	4	6	8	18	20	
			68	66	64	10	16	22	24
			70	72	62	12	14	28	26
114	112	78	76	74	60	42	40	30	32
116	110	80	82	84	58	44	38	36	34
118	108	106	104	86	56	46	48	190	192
120	126	128	102	88	54	52	50	188	194
122	124	130	100	90	176	178	184	186	196
140	138	132	98	92	174	180	182	200	198
142	136	134	96	94	172	170			
144	146	152	154	160	162	168			
	148	150	156	158	164	166			

Dibuja el camino empezando por el 2 y acabando por el 200, contando de dos en dos.



126	128	142	144	146	196	198			
124	130	140	138	148	194	200			
122	132	134	136	150	192				
120	118	156	154	152	190	188	186	184	182
114	116	158	160	162	164	166	172	174	180
112	110	108	106	80	78	168	170	176	178
98	100	102	104	82	76	74	72	70	68
96	90	88	86	84	38	40	42	64	66
94	92		12	14	36	34	44	62	60
			10	16	18	32	46	48	58
			8	6	20	30	28	50	56
			2	4	22	24	26	52	54

Dibuja el camino empezando por el 2 y acabando por el 200, contando de dos en dos.



174	176	178	184	186	196	198			
172	170	180	182	188	194	200			
166	168	158	156	190	192				
164	162	160	154	152	150	148	146	140	138
110	112	114	120	122	124	126	144	142	136
108	106	116	118	84	82	128	130	132	134
102	104	90	88	86	80	78	72	70	68
100	94	92	18	20	22	76	74	64	66
98	96		16	26	24	34	36	62	60
			14	28	30	32	38	56	58
			12	10	8	42	40	54	52
			2	4	6	44	46	48	50





Dibuja el camino empezando por el 2 y acabando por el 200, contando de dos en dos.

126	128	142	144	146	196	198				
124	130	140	138	148	194	200				
122	132	134	136	150	192					
120	118	156	154	152	190	188	186	184	182	
114	116	158	160	162	164	166	172	174	180	
112	110	108	106	80	78	168	170	176	178	
98	100	102	104	82	76	74	72	70	68	
96	90	88	86	84	38	40	42	64	66	
94	92		12	14	36	34	44	62	60	
				10	16	18	32	46	48	58
				8	6	20	30	28	50	56
				2	4	22	24	26	52	54



Dibuja el camino empezando por el 2 y acabando por el 200, contando de dos en dos.

166	168	170	172	194	196	198			
164	178	176	174	192	190	200			
162	180	182	184	186	188				
160	158	144	142	140	126	124	122	108	106
154	156	146	136	138	128	118	120	110	104
152	150	148	134	132	130	116	114	112	102
10	12	14	20	22	24	90	92	94	100
8	6	16	18	28	26	88	86	96	98
2	4		32	30	48	50	84	82	80
			34	44	46	52	66	68	78
			36	42	56	54	64	70	76
			38	40	58	60	62	72	74



Dibuja el camino empezando por el 2 y acabando por el 200, contando de dos en dos.

14	12	6	4					130	132
16	10	8	2				126	128	134
18	20	38	40				124	122	136
24	22	36	42	44	106	108	118	120	138
26	32	34	48	46	104	110	116	142	140
28	30	52	50	100	102	112	114	144	146
66	64	54	56	98	164	162	160	158	148
68	62	60	58	96	166	168	170	156	150
70	72	90	92	94	200	198	172	154	152
76	74	88				196	174	180	182
78	84	86				194	176	178	184
80	82					192	190	188	186



Dibuja el camino empezando por el 2 y acabando por el 200, contando de dos en dos.

			2	4	6	8	18	20	
			68	66	64	10	16	22	24
			70	72	62	12	14	28	26
114	112	78	76	74	60	42	40	30	32
116	110	80	82	84	58	44	38	36	34
118	108	106	104	86	56	46	48	190	192
120	126	128	102	88	54	52	50	188	194
122	124	130	100	90	176	178	184	186	196
140	138	132	98	92	174	180	182	200	198
142	136	134	96	94	172	170			
144	146	152	154	160	162	168			
	148	150	156	158	164	166			



Dibuja el camino empezando por el 2 y acabando por el 200, contando de dos en dos.

120	118	116	114					16	18
122	124	126	112				12	14	20
140	138	128	110				10	8	22
142	136	130	108	102	100	2	4	6	24
144	134	132	106	104	98	32	30	28	26
146	148	150	156	158	96	34	36	42	44
172	170	152	154	160	94	92	38	40	46
174	168	166	164	162	88	90	52	50	48
176	178	196	198	200	86	84	54	56	58
182	180	194				82	80	62	60
184	190	192				76	78	64	66
186	188					74	72	70	68



Dibuja el camino empezando por el 2 y acabando por el 200, contando de dos en dos.

174	176	178	184	186	196	198			
172	170	180	182	188	194	200			
166	168	158	156	190	192				
164	162	160	154	152	150	148	146	140	138
110	112	114	120	122	124	126	144	142	136
108	106	116	118	84	82	128	130	132	134
102	104	90	88	86	80	78	72	70	68
100	94	92	18	20	22	76	74	64	66
98	96		16	26	24	34	36	62	60
			14	28	30	32	38	56	58
			12	10	8	42	40	54	52
			2	4	6	44	46	48	50

Dibuja el camino empezando por el 2 y acabando por el 200, contando de dos en dos.



24	22	16	14					88	90
26	20	18	12				84	86	92
28	30	32	10				82	80	94
42	40	34	8	2	72	74	76	78	96
44	38	36	6	4	70	116	114	100	98
46	60	62	64	66	68	118	112	102	104
48	58	56	174	172	170	120	110	108	106
50	52	54	176	166	168	122	124	130	132
188	186	180	178	164	162	160	126	128	134
190	184	182				158	156	154	136
192	198	200				148	150	152	138
194	196					146	144	142	140

Dibuja el camino empezando por el 2 y acabando por el 200, contando de dos en dos.



24	22	16	14					88	90
26	20	18	12				84	86	92
28	30	32	10				82	80	94
42	40	34	8	2	72	74	76	78	96
44	38	36	6	4	70	116	114	100	98
46	60	62	64	66	68	118	112	102	104
48	58	56	174	172	170	120	110	108	106
50	52	54	176	166	168	122	124	130	132
188	186	180	178	164	162	160	126	128	134
190	184	182				158	156	154	136
192	198	200				148	150	152	138
194	196					146	144	142	140





Dibuja el camino empezando por el 2 y acabando por el 200, contando de dos en dos.

14	12	6	4					130	132
16	10	8	2				126	128	134
18	20	38	40				124	122	136
24	22	36	42	44	106	108	118	120	138
26	32	34	48	46	104	110	116	142	140
28	30	52	50	100	102	112	114	144	146
66	64	54	56	98	164	162	160	158	148
68	62	60	58	96	166	168	170	156	150
70	72	90	92	94	200	198	172	154	152
76	74	88				196	174	180	182
78	84	86				194	176	178	184
80	82					192	190	188	186



Dibuja el camino empezando por el 2 y acabando por el 200, contando de dos en dos.

174	176	178	184	186	196	198			
172	170	180	182	188	194	200			
166	168	158	156	190	192				
164	162	160	154	152	150	148	146	140	138
110	112	114	120	122	124	126	144	142	136
108	106	116	118	84	82	128	130	132	134
102	104	90	88	86	80	78	72	70	68
100	94	92	18	20	22	76	74	64	66
98	96		16	26	24	34	36	62	60
			14	28	30	32	38	56	58
			12	10	8	42	40	54	52
			2	4	6	44	46	48	50



Dibuja el camino empezando por el 2 y acabando por el 200, contando de dos en dos.

			2	4	6	8	18	20	
			52	50	48	10	16	22	24
			54	56	46	12	14	28	26
102	100	66	64	58	44	42	40	30	32
104	98	68	62	60	78	80	38	36	34
106	96	70	72	74	76	82	188	190	192
108	94	92	90	88	86	84	186	184	194
110	112	114	164	166	172	174	180	182	196
124	122	116	162	168	170	176	178	200	198
126	120	118	160	158	152	150			
128	130	136	138	156	154	148			
	132	134	140	142	144	146			



Dibuja el camino empezando por el 2 y acabando por el 200, contando de dos en dos.

			6	8	10	164	166	168	
			4	14	12	162	160	170	172
			2	16	146	148	158	176	174
38	36	26	24	18	144	150	156	178	180
40	34	28	22	20	142	152	154	184	182
42	32	30	56	58	140	130	128	186	188
44	50	52	54	60	138	132	126	192	190
46	48	74	72	62	136	134	124	194	196
84	82	76	70	64	118	120	122	200	198
86	80	78	68	66	116	114			
88	90	96	98	104	106	112			
	92	94	100	102	108	110			



Dibuja el camino empezando por el 2 y acabando por el 200, contando de dos en dos.

14	12	6	4					130	132
16	10	8	2				126	128	134
18	20	38	40				124	122	136
24	22	36	42	44	106	108	118	120	138
26	32	34	48	46	104	110	116	142	140
28	30	52	50	100	102	112	114	144	146
66	64	54	56	98	164	162	160	158	148
68	62	60	58	96	166	168	170	156	150
70	72	90	92	94	200	198	172	154	152
76	74	88				196	174	180	182
78	84	86				194	176	178	184
80	82					192	190	188	186



Dibuja el camino empezando por el 2 y acabando por el 200, contando de dos en dos.

			2	4	6	8	18	20	
			68	66	64	10	16	22	24
			70	72	62	12	14	28	26
114	112	78	76	74	60	42	40	30	32
116	110	80	82	84	58	44	38	36	34
118	108	106	104	86	56	46	48	190	192
120	126	128	102	88	54	52	50	188	194
122	124	130	100	90	176	178	184	186	196
140	138	132	98	92	174	180	182	200	198
142	136	134	96	94	172	170			
144	146	152	154	160	162	168			
	148	150	156	158	164	166			

Dibuja el camino empezando por el 2 y acabando por el 200, contando de dos en dos.



174	176	178	180	194	196	198			
172	170	168	182	192	190	200			
158	160	166	184	186	188				
156	162	164	142	140	138	124	122	116	114
154	152	150	144	134	136	126	120	118	112
20	22	148	146	132	130	128	106	108	110
18	24	26	28	30	32	102	104	94	92
16	10	8	6	36	34	100	98	96	90
14	12		4	38	56	58	60	62	88
			2	40	54	72	70	64	86
			44	42	52	74	68	66	84
			46	48	50	76	78	80	82

Dibuja el camino empezando por el 2 y acabando por el 200, contando de dos en dos.



14	12	6	4					130	132
16	10	8	2				126	128	134
18	20	38	40				124	122	136
24	22	36	42	44	106	108	118	120	138
26	32	34	48	46	104	110	116	142	140
28	30	52	50	100	102	112	114	144	146
66	64	54	56	98	164	162	160	158	148
68	62	60	58	96	166	168	170	156	150
70	72	90	92	94	200	198	172	154	152
76	74	88				196	174	180	182
78	84	86				194	176	178	184
80	82					192	190	188	186



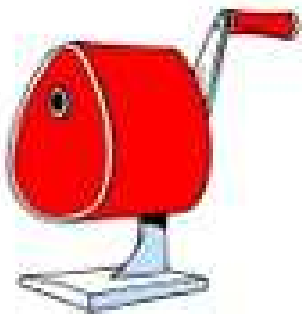

Dibuja el camino empezando por el 3 y acabando por el 300, contando de tres en tres.

189	192	213	216	219	294	297			
186	195	210	207	222	291	300			
183	198	201	204	225	288				
180	177	234	231	228	285	282	279	276	273
171	174	237	240	243	246	249	258	261	270
168	165	162	159	120	117	252	255	264	267
147	150	153	156	123	114	111	108	105	102
144	135	132	129	126	57	60	63	96	99
141	138		18	21	54	51	66	93	90
			15	24	27	48	69	72	87
			12	9	30	45	42	75	84
			3	6	33	36	39	78	81


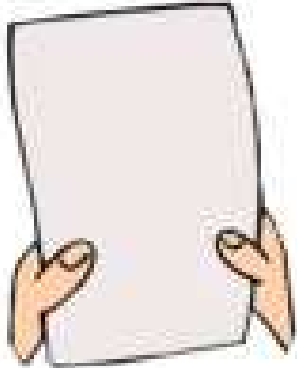
Dibuja el camino empezando por el 3 y acabando por el 300, contando de tres en tres.

21	18	9	6					195	198
24	15	12	3				189	192	201
27	30	57	60				186	183	204
36	33	54	63	66	159	162	177	180	207
39	48	51	72	69	156	165	174	213	210
42	45	78	75	150	153	168	171	216	219
99	96	81	84	147	246	243	240	237	222
102	93	90	87	144	249	252	255	234	225
105	108	135	138	141	300	297	258	231	228
114	111	132				294	261	270	273
117	126	129				291	264	267	276
120	123					288	285	282	279

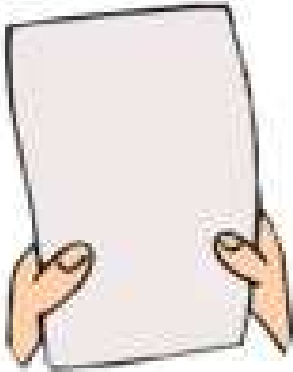

Dibuja el camino empezando por el 3 y acabando por el 300, contando de tres en tres.

			3	6	9	72	75	78	
			30	27	12	69	66	81	84
			33	24	15	60	63	90	87
147	144	141	36	21	18	57	54	93	96
150	153	138	39	42	45	48	51	102	99
159	156	135	132	129	126	123	120	105	108
162	165	168	267	270	273	276	117	114	111
189	186	171	264	261	258	279	288	291	294
192	183	174	249	252	255	282	285	300	297
195	180	177	246	243	234	231			
198	201	210	213	240	237	228			
	204	207	216	219	222	225			



Dibuja el camino empezando por el 3 y acabando por el 300, contando de tres en tres.

			3	6	9	12	27	30	
			102	99	96	15	24	33	36
			105	108	93	18	21	42	39
171	168	117	114	111	90	63	60	45	48
174	165	120	123	126	87	66	57	54	51
177	162	159	156	129	84	69	72	285	288
180	189	192	153	132	81	78	75	282	291
183	186	195	150	135	264	267	276	279	294
210	207	198	147	138	261	270	273	300	297
213	204	201	144	141	258	255			
216	219	228	231	240	243	252			
	222	225	234	237	246	249			



Dibuja el camino empezando por el 3 y acabando por el 300, contando de tres en tres.

189	192	213	216	219	294	297			
186	195	210	207	222	291	300			
183	198	201	204	225	288				
180	177	234	231	228	285	282	279	276	273
171	174	237	240	243	246	249	258	261	270
168	165	162	159	120	117	252	255	264	267
147	150	153	156	123	114	111	108	105	102
144	135	132	129	126	57	60	63	96	99
141	138		18	21	54	51	66	93	90
			15	24	27	48	69	72	87
			12	9	30	45	42	75	84
			3	6	33	36	39	78	81



Dibuja el camino empezando por el 3 y acabando por el 300, contando de tres en tres.

21	18	9	6					195	198
24	15	12	3				189	192	201
27	30	57	60				186	183	204
36	33	54	63	66	159	162	177	180	207
39	48	51	72	69	156	165	174	213	210
42	45	78	75	150	153	168	171	216	219
99	96	81	84	147	246	243	240	237	222
102	93	90	87	144	249	252	255	234	225
105	108	135	138	141	300	297	258	231	228
114	111	132				294	261	270	273
117	126	129				291	264	267	276
120	123					288	285	282	279

Dibuja el camino empezando por el 3 y acabando por el 300, contando de tres en tres.



			3	6	9	12	27	30	
			102	99	96	15	24	33	36
			105	108	93	18	21	42	39
171	168	117	114	111	90	63	60	45	48
174	165	120	123	126	87	66	57	54	51
177	162	159	156	129	84	69	72	285	288
180	189	192	153	132	81	78	75	282	291
183	186	195	150	135	264	267	276	279	294
210	207	198	147	138	261	270	273	300	297
213	204	201	144	141	258	255			
216	219	228	231	240	243	252			
	222	225	234	237	246	249			

Dibuja el camino empezando por el 3 y acabando por el 300, contando de tres en tres.



			9	12	15	246	249	252	
			6	21	18	243	240	255	258
			3	24	219	222	237	264	261
57	54	39	36	27	216	225	234	267	270
60	51	42	33	30	213	228	231	276	273
63	48	45	84	87	210	195	192	279	282
66	75	78	81	90	207	198	189	288	285
69	72	111	108	93	204	201	186	291	294
126	123	114	105	96	177	180	183	300	297
129	120	117	102	99	174	171			
132	135	144	147	156	159	168			
	138	141	150	153	162	165			



Dibuja el camino empezando por el 3 y acabando por el 300, contando de tres en tres.

			3	6	9	12	27	30	
			78	75	72	15	24	33	36
			81	84	69	18	21	42	39
153	150	99	96	87	66	63	60	45	48
156	147	102	93	90	117	120	57	54	51
159	144	105	108	111	114	123	282	285	288
162	141	138	135	132	129	126	279	276	291
165	168	171	246	249	258	261	270	273	294
186	183	174	243	252	255	264	267	300	297
189	180	177	240	237	228	225			
192	195	204	207	234	231	222			
	198	201	210	213	216	219			



Dibuja el camino empezando por el 3 y acabando por el 300, contando de tres en tres.

261	264	267	276	279	294	297			
258	255	270	273	282	291	300			
249	252	237	234	285	288				
246	243	240	231	228	225	222	219	210	207
165	168	171	180	183	186	189	216	213	204
162	159	174	177	126	123	192	195	198	201
153	156	135	132	129	120	117	108	105	102
150	141	138	27	30	33	114	111	96	99
147	144		24	39	36	51	54	93	90
			21	42	45	48	57	84	87
			18	15	12	63	60	81	78
			3	6	9	66	69	72	75



Dibuja el camino empezando por el 3 y acabando por el 300, contando de tres en tres.

36	33	24	21					132	135
39	30	27	18				126	129	138
42	45	48	15				123	120	141
63	60	51	12	3	108	111	114	117	144
66	57	54	9	6	105	174	171	150	147
69	90	93	96	99	102	177	168	153	156
72	87	84	261	258	255	180	165	162	159
75	78	81	264	249	252	183	186	195	198
282	279	270	267	246	243	240	189	192	201
285	276	273				237	234	231	204
288	297	300				222	225	228	207
291	294					219	216	213	210



Dibuja el camino empezando por el 3 y acabando por el 300, contando de tres en tres.

261	264	267	276	279	294	297			
258	255	270	273	282	291	300			
249	252	237	234	285	288				
246	243	240	231	228	225	222	219	210	207
165	168	171	180	183	186	189	216	213	204
162	159	174	177	126	123	192	195	198	201
153	156	135	132	129	120	117	108	105	102
150	141	138	27	30	33	114	111	96	99
147	144		24	39	36	51	54	93	90
			21	42	45	48	57	84	87
			18	15	12	63	60	81	78
			3	6	9	66	69	72	75



Dibuja el camino empezando por el 3 y acabando por el 300, contando de tres en tres.

			3	6	9	12	27	30	
			78	75	72	15	24	33	36
			81	84	69	18	21	42	39
153	150	99	96	87	66	63	60	45	48
156	147	102	93	90	117	120	57	54	51
159	144	105	108	111	114	123	282	285	288
162	141	138	135	132	129	126	279	276	291
165	168	171	246	249	258	261	270	273	294
186	183	174	243	252	255	264	267	300	297
189	180	177	240	237	228	225			
192	195	204	207	234	231	222			
	198	201	210	213	216	219			



Dibuja el camino empezando por el 3 y acabando por el 300, contando de tres en tres.

36	33	24	21					132	135
39	30	27	18				126	129	138
42	45	48	15				123	120	141
63	60	51	12	3	108	111	114	117	144
66	57	54	9	6	105	174	171	150	147
69	90	93	96	99	102	177	168	153	156
72	87	84	261	258	255	180	165	162	159
75	78	81	264	249	252	183	186	195	198
282	279	270	267	246	243	240	189	192	201
285	276	273				237	234	231	204
288	297	300				222	225	228	207
291	294					219	216	213	210

Dibuja el camino empezando por el 3 y acabando por el 300, contando de tres en tres.



			3	6	9	12	27	30	
			102	99	96	15	24	33	36
			105	108	93	18	21	42	39
171	168	117	114	111	90	63	60	45	48
174	165	120	123	126	87	66	57	54	51
177	162	159	156	129	84	69	72	285	288
180	189	192	153	132	81	78	75	282	291
183	186	195	150	135	264	267	276	279	294
210	207	198	147	138	261	270	273	300	297
213	204	201	144	141	258	255			
216	219	228	231	240	243	252			
	222	225	234	237	246	249			

Dibuja el camino empezando por el 3 y acabando por el 300, contando de tres en tres.



264	267	276	279	288	291	300			
261	270	273	282	285	294	297			
258	249	246	243	240	237				
255	252	45	48	231	234	213	210	201	198
36	39	42	51	228	219	216	207	204	195
33	30	27	54	225	222	87	90	189	192
12	15	24	57	78	81	84	93	186	183
9	18	21	60	75	72	99	96	177	180
6	3		63	66	69	102	105	174	171
			120	117	114	111	108	165	168
			123	132	135	144	147	162	159
			126	129	138	141	150	153	156





Dibuja el camino empezando por el 3 y acabando por el 300, contando de tres en tres.

			9	12	15	246	249	252	
			6	21	18	243	240	255	258
			3	24	219	222	237	264	261
57	54	39	36	27	216	225	234	267	270
60	51	42	33	30	213	228	231	276	273
63	48	45	84	87	210	195	192	279	282
66	75	78	81	90	207	198	189	288	285
69	72	111	108	93	204	201	186	291	294
126	123	114	105	96	177	180	183	300	297
129	120	117	102	99	174	171			
132	135	144	147	156	159	168			
	138	141	150	153	162	165			



Dibuja el camino empezando por el 3 y acabando por el 300, contando de tres en tres.

249	252	255	258	291	294	297			
246	267	264	261	288	285	300			
243	270	273	276	279	282				
240	237	216	213	210	189	186	183	162	159
231	234	219	204	207	192	177	180	165	156
228	225	222	201	198	195	174	171	168	153
15	18	21	30	33	36	135	138	141	150
12	9	24	27	42	39	132	129	144	147
3	6		48	45	72	75	126	123	120
			51	66	69	78	99	102	117
			54	63	84	81	96	105	114
			57	60	87	90	93	108	111



Dibuja el camino empezando por el 3 y acabando por el 300, contando de tres en tres.

36	33	24	21					132	135
39	30	27	18				126	129	138
42	45	48	15				123	120	141
63	60	51	12	3	108	111	114	117	144
66	57	54	9	6	105	174	171	150	147
69	90	93	96	99	102	177	168	153	156
72	87	84	261	258	255	180	165	162	159
75	78	81	264	249	252	183	186	195	198
282	279	270	267	246	243	240	189	192	201
285	276	273				237	234	231	204
288	297	300				222	225	228	207
291	294					219	216	213	210



Dibuja el camino empezando por el 3 y acabando por el 300, contando de tres en tres.

192	189	180	177					24	27
195	186	183	174				18	21	30
198	201	168	171				15	12	33
207	204	165	162	159	156	3	6	9	36
210	213	216	219	222	153	48	45	42	39
255	252	231	228	225	150	51	66	69	72
258	249	234	237	144	147	54	63	78	75
261	246	243	240	141	138	57	60	81	84
264	267	294	297	300	135	132	129	126	87
273	270	291				117	120	123	90
276	285	288				114	105	102	93
279	282					111	108	99	96



Dibuja el camino empezando por el 5 y acabando por el 500, contando de cinco en cinco.

			5	10	15	20	25	30	35
			70	65	60	55	50	45	40
			75	130	135	150	155	170	175
295	290		80	125	140	145	160	165	180
300	285	280	85	120	115	200	195	190	185
305	310	275	90		110	205	210	215	220
320	315	270	95	100	105	240	235	230	225
325	330	265	260	255	250	245	480	485	490
340	335	390	395	430	435	470	475	500	495
345	350	385	400	425	440	465			
360	355	380	405	420	445	460			
365	370	375	410	415	450	455			



Dibuja el camino empezando por el 5 y acabando por el 500, contando de cuatro en cuatro.

			5	10	15	20	25	30	35
			70	65	60	55	50	45	40
			75	130	135	150	155	170	175
325	320		80	125	140	145	160	165	180
330	315	310	85	120	115	200	195	190	185
335	340	305	90		110	205	210	215	220
350	345	300	95	100	105	240	235	230	225
355	360	295	260	255	250	245	480	485	490
370	365	290	265	450	455	470	475	500	495
375	380	285	270	445	460	465			
390	385	280	275	440	435	430			
395	400	405	410	415	420	425			

Dibuja el camino empezando por el 0 y acabando por el 500, contando de cinco en cinco.



			5	10	15	20	45	50	
			170	165	160	25	40	55	60
			175	180	155	30	35	70	65
285	280	195	190	185	150	105	100	75	80
290	275	200	205	210	145	110	95	90	85
295	270	265	260	215	140	115	120	475	480
300	315	320	255	220	135	130	125	470	485
305	310	325	250	225	440	445	460	465	490
350	345	330	245	230	435	450	455	500	495
355	340	335	240	235	430	425			
360	365	380	385	400	405	420			
	370	375	390	395	410	415			

Dibuja el camino empezando por el 0 y acabando por el 500, contando de cinco en cinco.



60	55	40	35					220	225
65	50	45	30				210	215	230
70	75	80	25				205	200	235
105	100	85	20	5	180	185	190	195	240
110	95	90	15	10	175	290	285	250	245
115	150	155	160	165	170	295	280	255	260
120	145	140	435	430	425	300	275	270	265
125	130	135	440	415	420	305	310	325	330
470	465	450	445	410	405	400	315	320	335
475	460	455				395	390	385	340
480	495	500				370	375	380	345
485	490					365	360	355	350



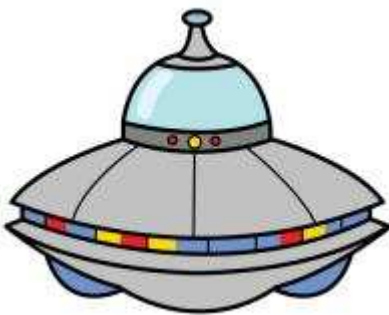

Dibuja el camino empezando por el 0 y acabando por el 500, contando de cinco en cinco.

300	295	290	285					40	45	
305	310	315	280				30	35	50	
350	345	320	275				25	20	55	
355	340	325	270	255	250	5	10	15	60	
360	335	330	265	260	245	80	75	70	65	
365	370	375	390	395	240	85	90	105	110	
430	425	380	385	400	235	230	95	100	115	
435	420	415	410	405	220	225	130	125	120	
440	445	490	495	500	215	210	135	140	145	
455	450	485					205	200	155	150
460	475	480					190	195	160	165
465	470						185	180	175	170



Dibuja el camino empezando por el 0 y acabando por el 500, contando de cinco en cinco.

315	320	355	360	365	490	495			
310	325	350	345	370	485	500			
305	330	335	340	375	480				
300	295	390	385	380	475	470	465	460	455
285	290	395	400	405	410	415	430	435	450
280	275	270	265	200	195	420	425	440	445
245	250	255	260	205	190	185	180	175	170
240	225	220	215	210	95	100	105	160	165
235	230		30	35	90	85	110	155	150
			25	40	45	80	115	120	145
			20	15	50	75	70	125	140
			5	10	55	60	65	130	135



Dibuja el camino empezando por el 0 y acabando por el 500, contando de cinco en cinco.

435	440	445	460	465	490	495			
430	425	450	455	470	485	500			
415	420	395	390	475	480				
410	405	400	385	380	375	370	365	350	345
275	280	285	300	305	310	315	360	355	340
270	265	290	295	210	205	320	325	330	335
255	260	225	220	215	200	195	180	175	170
250	235	230	45	50	55	190	185	160	165
245	240		40	65	60	85	90	155	150
			35	70	75	80	95	140	145
			30	25	20	105	100	135	130
			5	10	15	110	115	120	125

Dibuja el camino empezando por el 0 y acabando por el 500, contando de cinco en cinco.

			5	10	15	20	45	50	
			130	125	120	25	40	55	60
			135	140	115	30	35	70	65
255	250	165	160	145	110	105	100	75	80
260	245	170	155	150	195	200	95	90	85
265	240	175	180	185	190	205	470	475	480
270	235	230	225	220	215	210	465	460	485
275	280	285	410	415	430	435	450	455	490
310	305	290	405	420	425	440	445	500	495
315	300	295	400	395	380	375			
320	325	340	345	390	385	370			
	330	335	350	355	360	365			

Dibuja el camino empezando por el 0 y acabando por el 500, contando de cinco en cinco.

			5	10	15	20	45	50	
			170	165	160	25	40	55	60
			175	180	155	30	35	70	65
205	200	195	190	185	150	105	100	75	80
210	285	290	295	300	145	110	95	90	85
215	280	315	310	305	140	115	120	415	420
220	275	320	375	380	135	130	125	410	425
225	270	325	370	385	390	395	400	405	430
230	265	330	365	460	455	450	445	440	435
235	260	335	360	465	490	495			
240	255	340	355	470	485	500			
245	250	345	350	475	480				

Dibuja el camino empezando por el 0 y acabando por el 500, contando de cinco en cinco.

0			5	10	15	20	25	240	245
			50	45	40	35	30	325	250
			55	60	215	220	225	230	255
95	90	85		65	210	325	320	315	260
100	105	80	75	70	205	330	335	310	265
115	110	185	190	195	200	345	340	305	270
120	175	180	365	360	355	350		300	275
125	170	375	370	425	430	435	440	295	280
130	165	380	415	420	455	450	445	290	285
135	160	385	410	465	460	495	500		
140	155	390	405	470	485	490			
145	150	395	400	475	480				