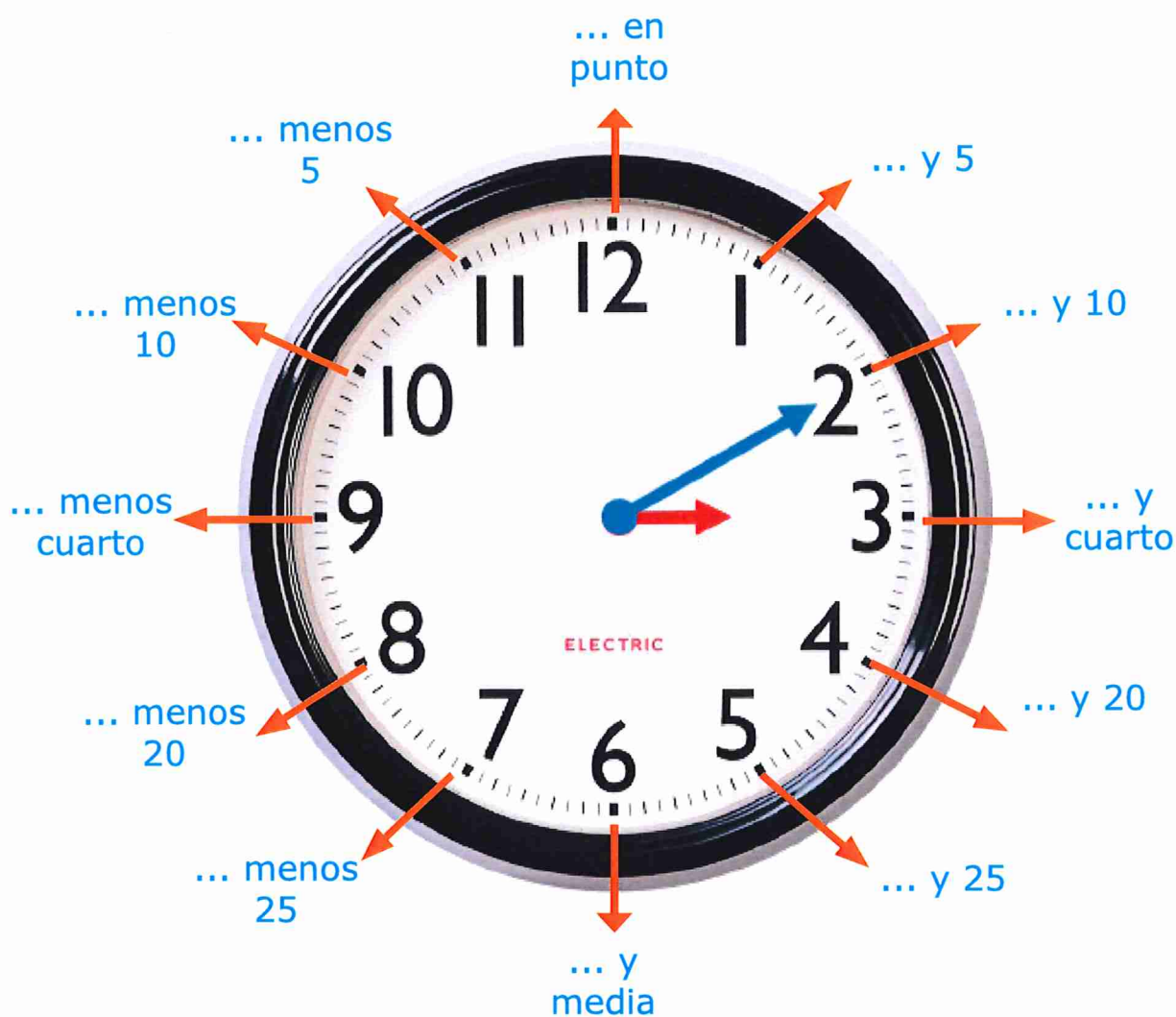


EL RELOJ DE AGUJA: Todos los minutos.

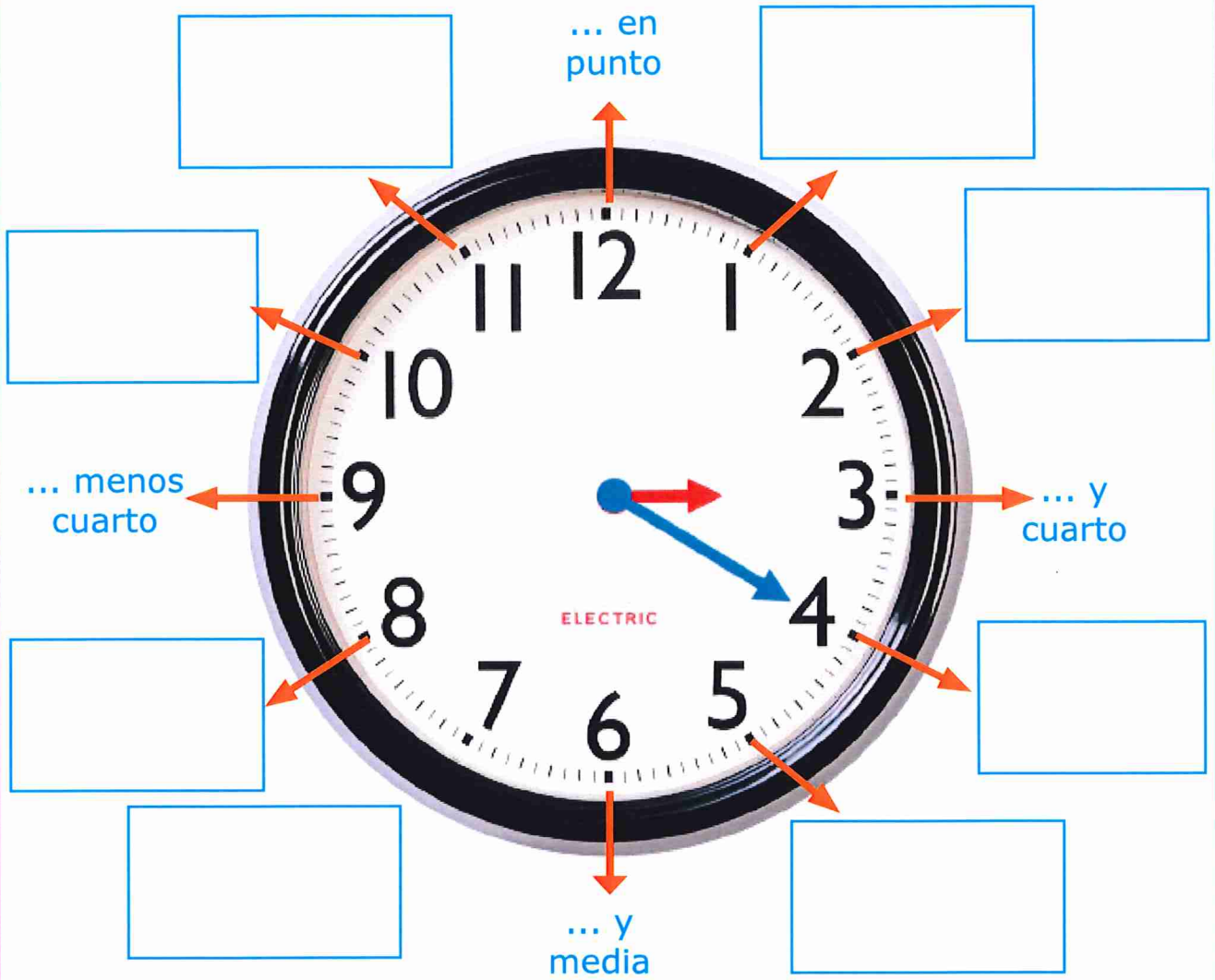
- La aguja **corta** marca las **horas**.
- La aguja **larga** marca los **minutos**.
- Según la aguja larga va avanzando **de 5 en 5** minutos vamos leyendo el reloj.



En este reloj son las **tres y diez**.

Actividades:


Completa cómo se leen los minutos en este reloj de aguja:



¿Qué hora es en este reloj?

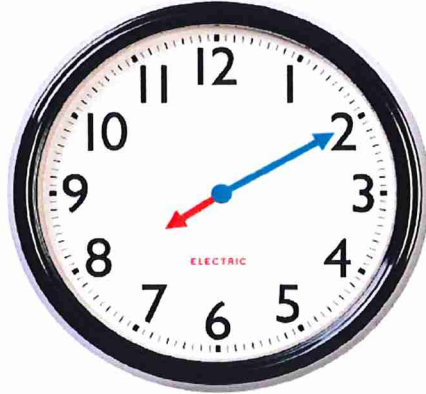
Actividades:

¿Qué hora es?




- Las 3 y 5.
- Las 3 y 20.
- Las 3 y 10.

¿Qué hora es?



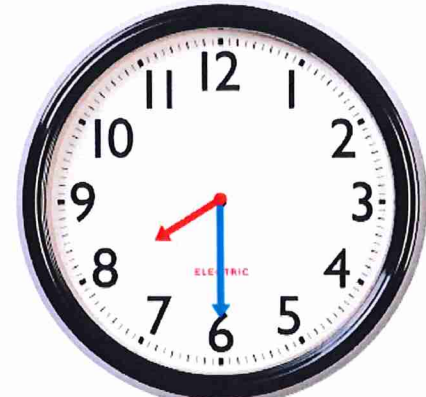
- Las 8 menos 10.
- Las 8 en punto.
- Las 8 y 10.

¿Qué hora es?



- La 3 y media.
- La 3 y 20.
- La 3 en punto.

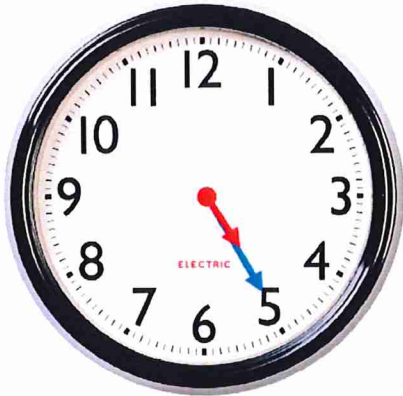
¿Qué hora es?



- Las 8 en punto.
- Las 8 y media.
- Las 8 y 20.

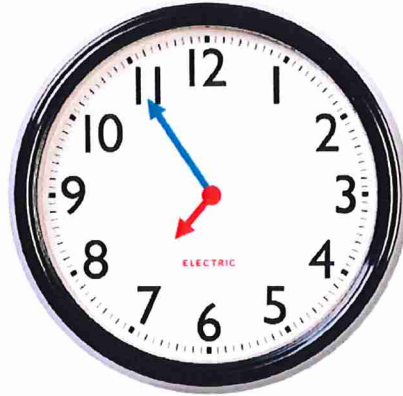
Actividades:

¿Qué hora es?




- Las 5 y 25.
- Las 4 y media.
- Las 5 y 10.

¿Qué hora es?




- Las 2 menos 5.
- Las 7 menos 5.
- Las 7 en punto.

¿Qué hora es?



- Las 11 y media.
- Las 5 y 10.
- Las 5 menos 20.

¿Qué hora es?



- Las 7 y cuarto.
- Las 7 y media.
- Las 7 en punto.

Actividades:


Cuenta de 5 en 5 hasta llegar a 60:

0												
---	--	--	--	--	--	--	--	--	--	--	--	--

Cuenta hacia atrás de 5 en 5 hasta llegar a 0:


60												
----	--	--	--	--	--	--	--	--	--	--	--	--

Completa cómo se leen los minutos en este reloj de aguja:




Actividades:


Dibuja las agujas:




Las 7 h menos 20 min.




Las 4 h y 10 min.




Las 6 h y 20 min.



Las 9 h menos 10 min.




Las 3 h y 5 min.




Las 10 h menos 25 min.

Actividades:

¿Qué hora es?




Son las _____



Son las _____



Son las _____



Son las _____




Son las _____




Son las _____

Actividades:

¿Qué hora es?




Son las _____




Son las _____



Son las _____



Son las _____



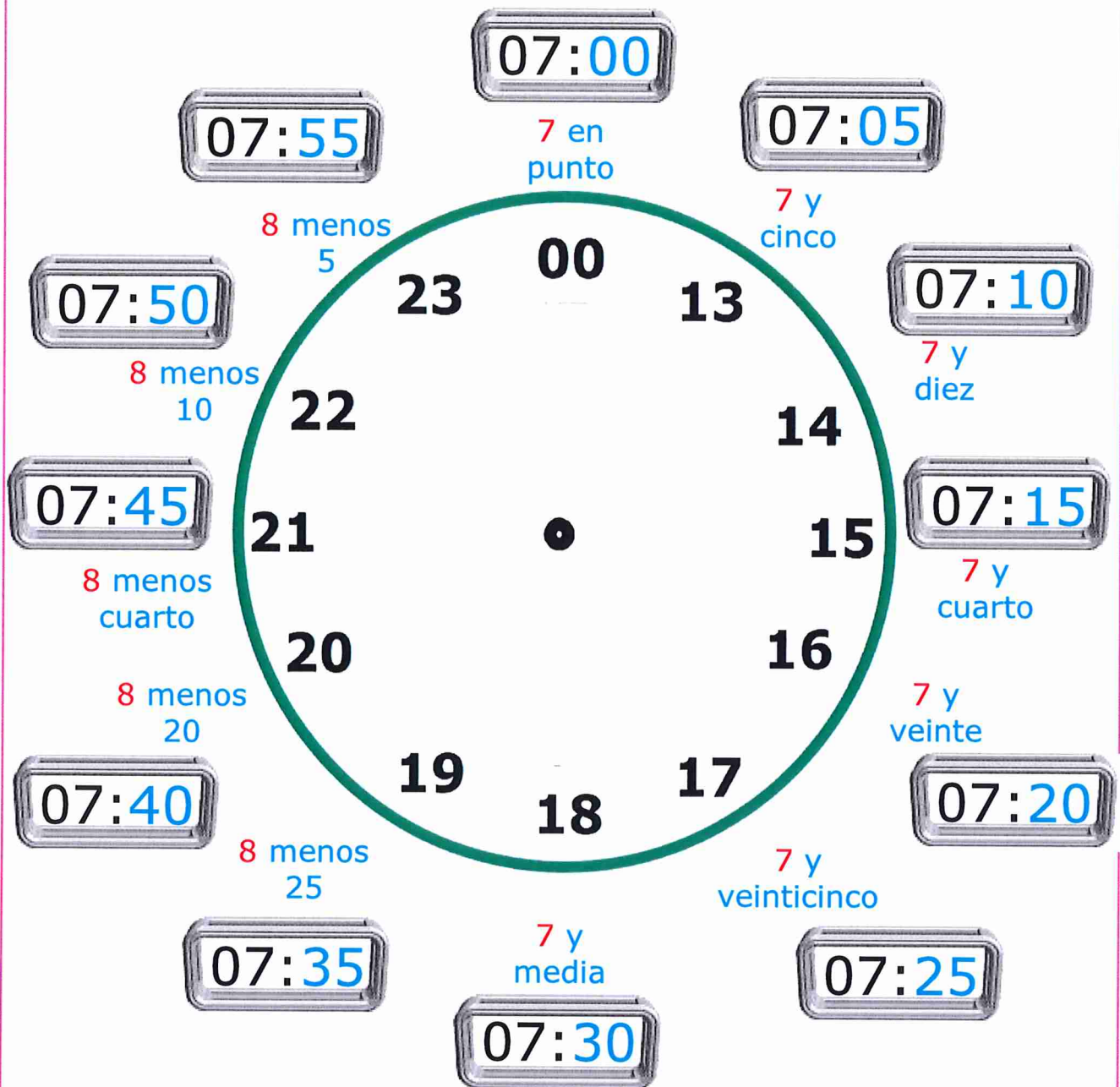
Son las _____



Son las _____

EL RELOJ DIGITAL: Todos los minutos.

- En el **reloj digital** los **minutos** se leen del siguiente modo, fíjate en los relojes digitales:



Fíjate:

- A partir de y media se lee diciendo la siguiente hora, en este caso las **8**.

No lo olvides:

Para saber qué hora es en un reloj digital solo tienes que restarle 12 a la hora que marca.

Si el reloj pone las , al 22 le restamos 12.

$$\begin{array}{r} 22 \\ - 12 \\ \hline 10 \end{array}$$

Son las 10 horas de la noche.

Actividades:

Lee y completa la hora que marcan estos relojes:



Las 7 en ...



Las 7 y ...



Las 7 y ...



Las 8 menos ...



Las 7 y ...



Las 8 menos ...



Las 7 y ...



Las 8 menos ...



Las 7 y ...



Las 8 menos ...



Las 7 y ...



Las 8 menos ...

Actividades:

¿Qué hora es?



- Las 3 en punto.
- Las 3 y 10.
- Las 3 menos 10.



- Las 9 en punto.
- Las 9 y 5.
- Las 7 y 5.



- Las 12 en punto.
- Las 12 y 10.
- Las 10 en punto.



- Las 12 y cuarto.
- Las 12 en punto.
- Las 3 y 10.




- Las 9 y media.
- Las 9 y 20.
- Las 9 y 10.



- Las 2 y 25.
- Las 12 y 25.
- Las 8 y 25.



- Las 10 menos 20.
- Las 2 y 20.
- Las 11 menos 20.




- Las 9 y 25.
- Las 9 menos 25.
- Las 10 menos cuarto.

Actividades:

Completa la hora de los relojes digitales:



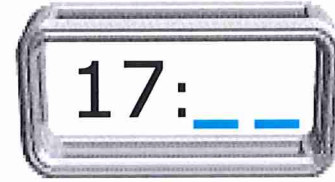
Las 9 h y 10 min. de la noche



Las 5 h menos 20 min. de la madrugada




Las 9 h y 25 min. de la mañana




Las 6 h menos 25 min. de la tarde



Las 6 h y 5 min. de la tarde



La 1 h menos cuarto de la madrugada



Las 11 h menos 10 min. de la noche



Las 11 h y 20 min. de la noche

Actividades:


Completa la hora de los relojes digitales:



Las 8 h en punto de la tarde.



Las 6 h menos 5 min. de la madrugada




Las 6 h y media de la madrugada



Las 3 h y cuarto de la tarde



Las 4 h y 5 min. de la tarde



Las 10 h menos cuarto de la noche



Las 2 h menos 10 min. del mediodía



Las 10 h y 20 min. de la mañana

Actividades:

¿Qué hora es?



- Las 7 en punto.
- Las 7 y 5.
- Las 8 menos 10.



- Las 11 menos 5.
- Las 12 menos 5.
- Las 11 y 5.



- Las 8 en punto.
- Las 6 en punto.
- La 1 en punto.



- Las 5 menos 5.
- Las 5 y 5.
- Las 3 y 5.



- Las 9 y media.
- Las 9 y 20.
- Las 9 y 10.



- Las 7 y cuarto.
- Las 9 y cuarto.
- Las 12 y cuarto.



- Las 10 menos 20.
- Las 4 y 20.
- Las 4 menos 20.



- Las 9 y 25.
- Las 10 menos 25.
- Las 10 y 25.

¿Qué hora es?



Son las _____



Son las _____



Son las _____



Son las _____



Son las _____

Actividades:

Completa los minutos de los relojes digitales:

07:

7 en punto

07:

7 y cinco

8 menos 5

07:

00

23

13

07:

7 y diez

8 menos 10

22

14

07:

8 menos cuarto

21

15

07:

7 y quince

8 menos 20

20

16

07:

7 y veinte

8 menos 25

19

18

17

07:

7 y veinticinco

07:

7 y treinta

07:

Actividades:

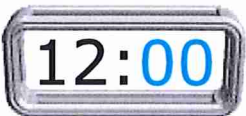
¿Qué hora es?



Son las _____



Son las _____



Son las _____




Son las _____



Son las _____

Actividades:

Relaciona y une el reloj digital con su reloj analógico correspondiente:



Actividades:

Relaciona y une el reloj digital con su reloj analógico correspondiente:

