

Probas de acceso a ciclos formativos de grao medio

CMPS003

Ciencias sociais

Parte sociolingüística



1. Formato da proba

Formato

- A proba consta de vinte cuestións tipo test.
- As cuestións tipo test teñen tres posibles respostas das que soamente unha é correcta.

Puntuación

- 0,50 puntos por cuestión tipo test correctamente contestada.
- Cada cuestión tipo test incorrecta restará 0,10 puntos.
- Polas respostas en branco non se descontará puntuación.
- No caso de marcar máis dunha resposta por pregunta considerarase como unha resposta en branco.

Materiais e instrumentos que se poden empregar durante a proba

- Bolígrafo con tinta negra ou azul.

Duración

- Este exercicio terá unha duración máxima de 50 minutos.

2. Exercicio

1. Indique que territorios dos citados formaron parte do Imperio Francés no século XIX.

Indique qué territorios de los citados formaron parte del Imperio Francés en el siglo XIX.

A Rusia e Xapón.

Rusia y Japón.

B Camboia, Vietnam e Laos (Indochina).

Camboya, Vietnam y Laos (Indochina).

C Exipto e Suráfrica.

Egipto y Sudáfrica.

2. Identifique a resposta correcta da seguinte secuencia de países europeos:

Identifique la respuesta correcta de la siguiente secuencia de países europeos:

A 1. Dinamarca, 2. Lituania, 3. Grecia, 4. Polonia, 5. Suíza, 6. Países Baixos, 7. Croacia, 8. Letonia, 9. Bélxica, 10. Chequia.

1. Dinamarca, 2. Lituania, 3. Grecia, 4. Polonia, 5. Suiza, 6. Países Bajos, 7. Croacia, 8. Letonia, 9. Bélgica, 10. República Checa.

B 1. Países Baixos, 2. Bulgaria, 3. Polonia, 4. Hungría, 5. Chequia, 6. Dinamarca, 7. Croacia, 8. Eslovenia, 9. Letonia, 10. Ucraína.

1. Países Bajos, 2. Bulgaria, 3. Polonia, 4. Hungría, 5. República Checa, 6. Dinamarca, 7. Croacia, 8. Eslovenia, 9. Letonia, 10. Ucrania.

C 1. Países Baixos, 2. Letonia, 3. Eslovenia, 4. Hungría, 5. Bulgaria, 6. Dinamarca, 7. Croacia, 8. Ucraína, 9. Polonia, 10. Chequia.

1. Países Bajos, 2. Letonia, 3. Eslovenia, 4. Hungría, 5. Bulgaria, 6. Dinamarca, 7. Croacia, 8. Ucrania, 9. Polonia, 10. República Checa.



3. En relación á Primeira Guerra Mundial, indique a afirmación correcta.

En relación a la **Primera Guerra Mundial**, indique la afirmación correcta.

- A** O asasinato do herdeiro do Imperio Austrohúngaro, Francisco Fernando, en Saraxevo, precipitou o inicio da Primeira Guerra Mundial.
El asesinato del heredero del Imperio Austrohúngaro, Francisco Fernando, en Sarajevo, precipitó el inicio de la Primera Guerra Mundial.
- B** A tensión xerada por Alemaña coa ocupación dos Sudetes propiciou o inicio da Primeira Guerra Mundial.
La tensión generada por Alemania con la ocupación de los Sudetes propició el inicio de la Primera Guerra Mundial.
- C** O ataque do Xapón sobre a base naval de Pearl Harbour propiciou a entrada dos EE UU na Primeira Guerra Mundial.
El ataque de Japón sobre la base naval de Pearl Harbour propició la entrada de los EE UU en la Primera Guerra Mundial.

4. Á vista da obra proposta, sinala a definición correcta do estilo cubista.

A la vista de la obra propuesta, señale la definición correcta del estilo cubista.

- A** O cubismo caracterizábase esencialmente pola representación figurativa do sentir romántico.
El cubismo se caracterizaba esencialmente por la representación figurativa del sentir romántico.
- B** O seu principal interese era a representación da incidencia da luz en cada momento do día.
Su principal interés era la representación de la incidencia de la luz en cada momento del día.
- C** Coas súas obras, os artistas deste movemento intentaban romper o punto de vista único, é dicir, a perspectiva e a profundidade na pintura que se daba desde o Renacemento.
Con sus obras, los artistas de este movimiento intentaban romper el punto de vista único, es decir, la perspectiva y la profundidad en la pintura que se daba desde el Renacimiento.



5. Sinala a frase que amosa un contido correcto respecto á Revolución Industrial:

Señale la frase que muestra un contenido correcto respecto a la Revolución Industrial:

- A** A Revolución Industrial supuxo, en primeira instancia, un forte aumento da mortalidade en Inglaterra.
La Revolución Industrial supuso, en primera instancia, un fuerte aumento de la mortalidad en Inglaterra.
- B** A Revolución Industrial iniciouse en Inglaterra co desenvolvemento do sector téxtil.
La Revolución Industrial se inició en Inglaterra con el desarrollo del sector textil.
- C** A Revolución Industrial iniciouse en Alemaña co desenvolvemento do sector do automóbil.
La Revolución Industrial se inició en Alemania con el desarrollo del sector del automóvil.

6. Indique a secuencia cronolóxica correcta referida á historia de España:

Indique la secuencia cronológica correcta referida a la historia de España:

- A** Idade do Bronce - Colonización grega - Chegada dos cartaxineses á Península.
Edad de Bronce - Colonización griega - Llegada de los cartagineses a la Península.
- B** Colonización grega - Idade do Bronce - Chegada dos cartaxineses á Península.
Colonización griega - Edad de Bronce - Llegada de los cartagineses a la Península.
- C** Chegada dos cartaxineses á Península - Idade do Bronce - Colonización Grega.
Llegada de los cartagineses a la Península - Edad de Bronce - Colonización Griega.

7. A pintura amosa a disposición en retablo e os fondos dourados enmarcados en arquitectura oxival. A que estilo pertence?

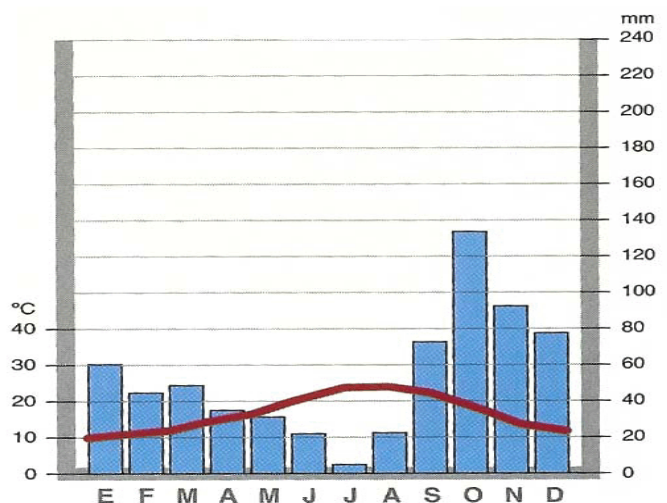
La pintura muestra la disposición en retablo y los fondos dorados enmarcados en arquitectura ojival. ¿A qué estilo pertenece?

- A** Manierista.
- B** Barroco.
- C** Gótico.

**8. Polas súas características de temperaturas suaves e precipitacións concentradas especialmente no outono, o gráfico proposto corresponde a un clima de tipo:**

Por sus características de temperaturas suaves y precipitaciones concentradas especialmente en el otoño, el gráfico propuesto corresponde a un clima de tipo:

- A** Tropical seco.
Tropical seco.
- B** Oceánico temperado.
Oceánico templado.
- C** Mediterráneo.
Mediterráneo.



9. Sinala a secuencia correcta de cordilleiras europeas que percorre a liña de oeste a leste.

Señale la secuencia correcta de cordilleras europeas que recorre la línea de oeste a este.

- A** Apeninos – Balcáns – Cárpatos – Montes Urais.
Apeninos – Balcanes – Cárpatos – Montes Urales.
- B** Cáucaso – Cárpatos – Balcáns – Montes Urais.
Cáucaso – Cárpatos – Balcanes – Montes Urales.
- C** Cárpatos – Montes Urais – Cáucaso – Balcáns.
Cárpatos – Montes Urales – Cáucaso – Balcanes.

**10. Onde se localizan as taxas de crecemento de poboación máis altas no mundo?**

¿Dónde se localizan las tasas de crecimiento de población más altas en el mundo?

- A** En América do Norte e en África.
En América del Norte y en África.
- B** En África, no sur de Asia e en América Latina.
En África, en el sur de Asia y en América Latina.
- C** En América Latina e en Europa.
En América Latina y en Europa.

- 11.** Na segunda metade do século XIX desenvolveuse o pensamento socialista, sinaladamente o anarquismo e o marxismo. Cal era o principal punto de diverxencia entre ambas as correntes de pensamento?

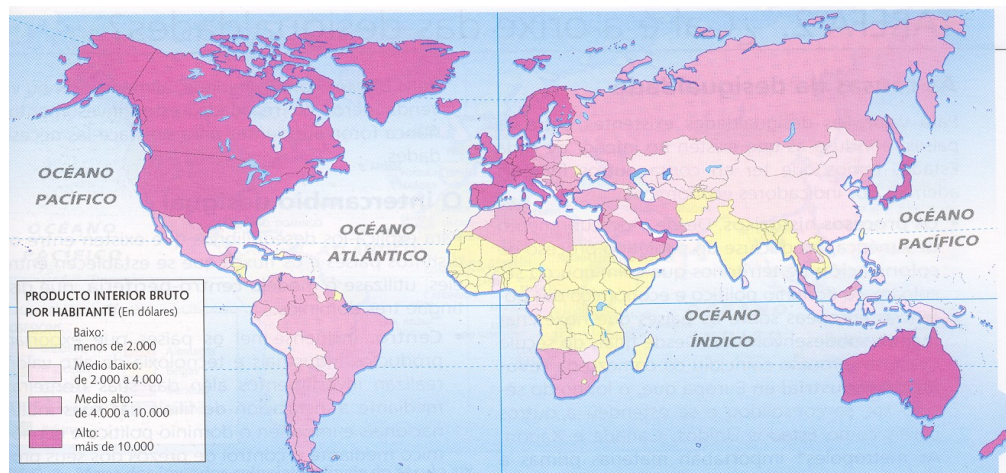
En la segunda mitad del siglo XIX se desarrolló el pensamiento socialista, principalmente el anarquismo y el marxismo. ¿Cual era el principal punto de divergencia entre ambas corrientes de pensamiento?

- A** Os anarquistas crían no Estado liberal-burgués e os marxistas non o aceptaban.
Los anarquistas creían en el Estado liberal-burgués y los marxistas no lo aceptaban.
- B** Os marxistas estaban en contra da fundación de partidos políticos, en tanto os anarquistas crían na participación electoral.
Los marxistas estaban en contra de la fundación de partidos políticos, mientras los anarquistas creían en la participación electoral.
- C** Os anarquistas querían suprimir toda forma de Estado, en tanto os marxistas concibían a toma do Estado como un medio de chegar á ditadura do proletariado.
Los anarquistas querían suprimir toda forma de Estado, mientras los marxistas concebían la toma del Estado como un medio de llegar a la dictadura del proletariado.

- 12.** Observe o mapa da distribución do PIB mundial e seleccione a resposta correcta:

Observe el mapa de la distribución del PIB mundial y seleccione la respuesta correcta:

- A** O fenómeno das "economías emerxentes", en rápido crecemento, estase a dar en países como Brasil, a China, Suráfrica ou a India.
El fenómeno de las "economías emergentes", en rápido crecimiento, se está dando en países como Brasil, China, Sudáfrica o India.
- B** O fenómeno das "economías emerxentes", en rápido crecemento, estase a dar en países como Perú, México, Cuba e Irán.
El fenómeno de las "economías emergentes", en rápido crecimiento, se está dando en países como Perú, México, Cuba e Irán.
- C** O fenómeno das "economías emerxentes", en rápido crecemento, estase a dar en países como os EEUU, Canadá, Venezuela e Nicaragua.
El fenómeno de las "economías emergentes", en rápido crecimiento, se está dando en países como los EEUU, Canadá, Venezuela y Nicaragua.





13. Cal dos seguintes ríos galegos desemboca na vertente cantábrica?

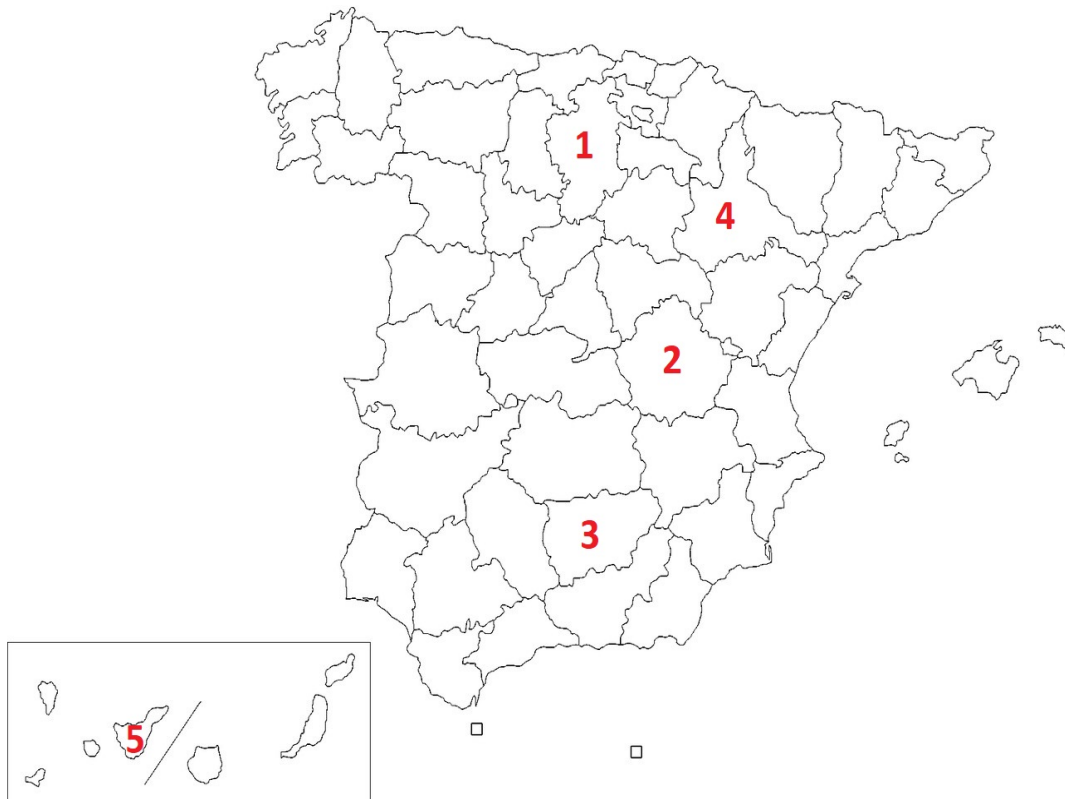
¿Cuál de los siguientes ríos gallegos desemboca en la vertiente cantábrica?

- A** Xallas.
- B** Eo.
- C** Eume.

14. Identifique correctamente as provincias españolas sinaladas por números no mapa:

Identifique correctamente las provincias españolas señaladas por números en el mapa:

- A** 1. A Rioxa, 2. Teruel, 3. Málaga, 4. Araba, 5. As Palmas.
1. La Rioja, 2. Teruel, 3. Málaga, 4. Álava, 5. Las Palmas.
- B** 1. Burgos, 2. Cuenca, 3. Xaén, 4. Zaragoza, 5. Santa Cruz de Tenerife.
1. Burgos, 2. Cuenca, 3. Jaén, 4. Zaragoza, 5. Santa Cruz de Tenerife.
- C** 1. Valladolid, 2. Albacete, 3. Granada, 4. Teruel, 5. Santa Cruz de Tenerife.
1. Valladolid, 2. Albacete, 3. Granada, 4. Teruel, 5. Santa Cruz de Tenerife.





15. A despoboación de determinadas provincias do interior de España, fenómeno hoxe coñecido como "a España baleirada" é un fenómeno multicausal. Sinala a resposta que se adecúe mellor á identificación deste fenómeno demográfico.

La despoblación de determinadas provincias del interior de España, fenómeno hoy conocido como "la España vaciada" es un fenómeno multicausal. Señale la respuesta que se adecue mejor a la identificación de este fenómeno demográfico.

- A** A despoboación foi causada principalmente pola política da transición ecolóxica e a construción de parques eólicos.

La despoblación fue causada principalmente por la política de transición ecológica y la construcción de parques eólicos.

- B** A despoboación foi causada principalmente polo establecemento de empresas multinacionais nos territorios do interior de España.

La despoblación fue causada principalmente por el establecimiento de empresas multinacionales en los territorios del interior de España.

- C** A despoboación foi causada principalmente polo éxodo rural experimentado en España nas décadas de 1950 e 1960.

La despoblación fue causada principalmente por el éxodo rural experimentado en España en las décadas de 1950 y 1960.

16. Cal é a secuencia cronolóxica correcta referida á historia da arte?

¿Cuál es la secuencia cronológica correcta referida a la historia del arte?

- A** Gótico – Barroco – Románico.

- B** Románico – Gótico – Barroco.

- C** Gótico – Románico – Barroco.

17. Pola orde dos capiteis das súas columnas, o templo de Atenea Niké de Atenas é:

Por el orden de los capiteles de sus columnas, el templo de Atenea Niké de Atenas es:

- A** De orde dórica.


De orden dórico.

- B** De orde corintia.

De orden corintio.

- C** De orde xónica.

De orden jónico.



18. Indique a cronoloxía correcta correspondente á primeira República Española.

Indique la cronología correcta correspondiente a la primera República Española.

- A** 1873-1874

- B** 1808-1812

- C** 1931-1939



19. Indique a resposta correcta que recolle todos os países árabes situados na área bioclimática do Magreb:

Indique la respuesta correcta que recoge todos los países árabes situados en el área bioclimática del Magreb:

A Exipto, Mauritania e Iemen.

Egipto, Mauritania y Yemen.

B Marrocos, Tunisia e Libia.

Marruecos, Túnez y Libia.

C Exipto, Marrocos e Siria.

Egipto, Marruecos y Siria.

20. Unha das causas principais do ascenso do nazismo na Alemaña de entreguerras foi:

Una de las causas principales del ascenso del nazismo en la Alemania de entreguerras fue:

A O descontento social xeneralizado coas cláusulas económicas e territoriais asinadas no tratado de Versalles de 1919.

El descontento social generalizado con las cláusulas económicas y territoriales firmadas en el tratado de Versalles de 1919.

B O descontento social causado pola perda do seu imperio colonial.

El descontento social causado por la pérdida de su imperio colonial.

C O descontento social causado pola intención austríaca de unirse a Alemaña.

El descontento social causado por la intención austríaca de unirse a Alemania.



3. Solución para as preguntas tipo test

Nº	A	B	C	
1		X		
2			X	
3	X			
4			X	
5		X		
6	X			
7			X	
8			X	
9	X			
10		X		
11			X	
12	X			
13		X		
14		X		
15			X	
16		X		
17			X	
18	X			
19		X		
20	X			
N.º de respostas correctas (C)				
N.º de respostas incorrectas (Z)				
Puntuación do test= $C \times 0,5 - Z \times 0,10$				

**Nas preguntas de test, por cada resposta incorrecta descontaranse 0,10 puntos.
As respostas en branco non descontarán puntuación.**