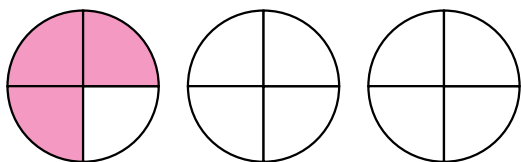


Fracción como división

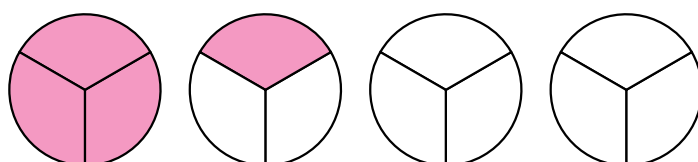
1 ¿Qué fracción de pizza le corresponde a cada persona? Colorea y escribe.

- 3 pizzas en partes iguales entre 4 personas.



A cada persona le corresponden tres cuartos de pizza.

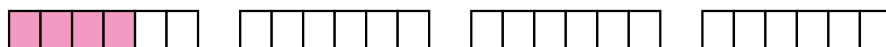
- 4 pizzas en partes iguales entre 3 personas.



A cada persona le corresponden cuatro tercios de pizza.

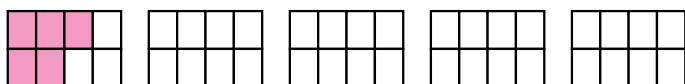
2 Resuelve cada problema. Ayúdate haciendo un dibujo aproximado.

- Un grupo de 6 amigos y amigas va a hacer senderismo. Han comprado 4 barras de pan y se han hecho bocadillos iguales. ¿Qué fracción de barra le corresponde a cada uno?



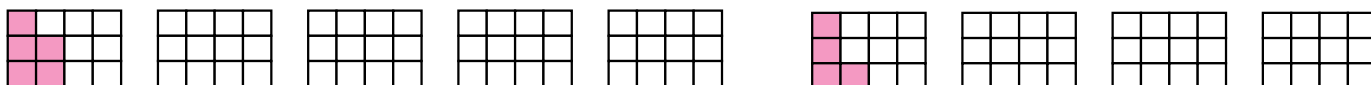
A cada uno le corresponden cuatro sextos de barra.

- Para el cumpleaños de Alberto su padre hizo 5 empanadas iguales. Las empanadas las repartieron en partes iguales entre 8 personas. ¿Qué fracción de empanada le correspondió a cada persona?



A cada uno le corresponden cinco octavos de empanada.

- La profesora de Plástica reparte 5 cartulinas rojas y 4 cartulinas azules en partes iguales entre 12 estudiantes. ¿Qué fracción de cartulina roja y de cartulina azul le corresponde a cada estudiante?



A cada uno le corresponden cinco doceavos de cartulina roja y cuatro doceavos de cartulina azul.

3 Completa el dibujo y contesta.

Varios vecinos de un pueblo se han repartido en partes iguales 2 terrenos de la misma forma y tamaño. A cada uno le han correspondido dos sextos del terreno total. ¿Cuántos vecinos se han repartido los terrenos?

Se han repartido los 2 terrenos entre 3 vecinos.

