

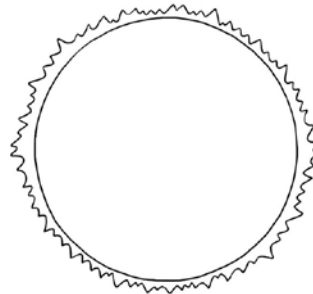
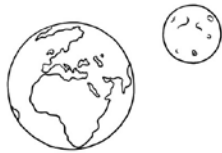
Nombre _____ Fecha _____

1 Colorea.

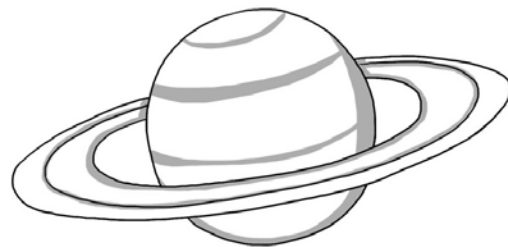
De azul ► Tierra

De amarillo ► Sol

De gris ► Luna



2 ¿Cuál de estos planetas representa la Tierra? Rodea y explica por qué.



Porque _____
_____.

3 Convierte estas oraciones falsas en verdaderas.

El Sol es la estrella más lejana a la Tierra.

La Luna es una estrella que gira alrededor del Sol.

La Luna brilla porque tiene luz propia.
