

Recibidos (58) - coferro42@g... x Book - Santillana x +

https://prod.santillana.com/launcher_books/books.html?book=202015253_U32_U1_U101_U2

Páginas 5.2

1. Compara y escribe el signo adecuado.



+ 4,9 9,4 + 9,34 9,32 + 9,38 9,352

+ 72,04 70,41 + 12,09 12,19 + 45,091 45,019

+ 3,125 5,312 + 43,12 43,02 + 83,2 83,27


+ 0,332 0,093 + 76,4 76,41 + 90,843 90,842

2. En cada grupo, rodea con el color indicado.

El número mayor  El número menor 

4,56	6,56	73,96	73,69	21,312	21,213
6,65		73,09		21,132	21,321

3. Observa la recta y escribe el número que representa cada punto.




••• ••• •••

••• ••• •••

4. Resuelve.

Alejandra ha comprado una mochila para llevar libros al colegio, y una raqueta para sus clases de tenis. Ha elegido la mochila que cuesta más de 24,50 € y menos de 25 €, y la raqueta que cuesta más de 30,99 €. ¿Qué precio tienen la mochila y la raqueta que ha comprado?



24,90 € 30,50 €

24 € 30,90 €

25,50 € 31 €

22

Escribe aquí para buscar

21:43 17/04/2020