











1 Rodea.

<p>Los números que tienen 7 centenas.</p> 	<p>Los números que tienen 8 unidades de millar.</p> 	<p>Los números que tienen 9 decenas de millar.</p> 
<p>9.724      70.418</p> <p>25.706      67.219</p>	<p>81.714      8.016</p> <p>78.420      5.810</p>	<p>24.418      98.716</p> <p>90.527      59.029</p>

• Escribe cómo se leen los números que has rodeado de cada color.

	<input type="text"/>	▶	_____
	<input type="text"/>	▶	_____
	<input type="text"/>	▶	_____
	<input type="text"/>	▶	_____
	<input type="text"/>	▶	_____
	<input type="text"/>	▶	_____

2 Relaciona las piezas y calcula.

<p>Multiplica 3.567</p> 	<p>Multiplica 492</p> 	<p>Divide 7.450</p> 	<p>Divide 18.732</p> 
<p>por 56</p> 	<p>entre 5</p> 	<p>entre 7</p> 	<p>por 8</p> 