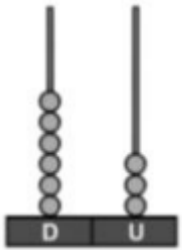
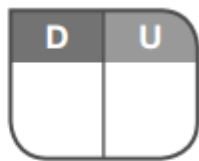
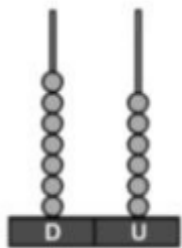


**1** Cuenta y completa.



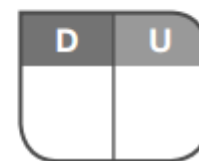

$$60 + 3 = \square$$

decenas y  unidades



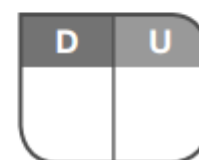
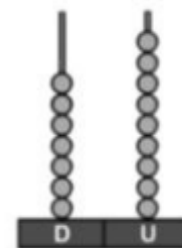
$$\square + \square = \square$$

decenas y  unidades



$$\square + \square = \square$$

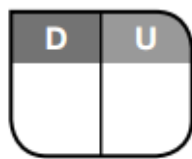

decenas y  unidades

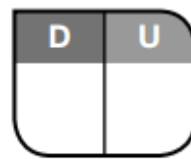



$$\square + \square = \square$$

decenas y  unidades

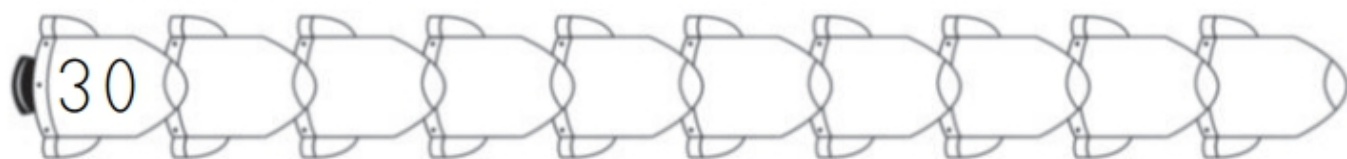
**2** ¿Qué número es? Completa y escribe cómo se lee.



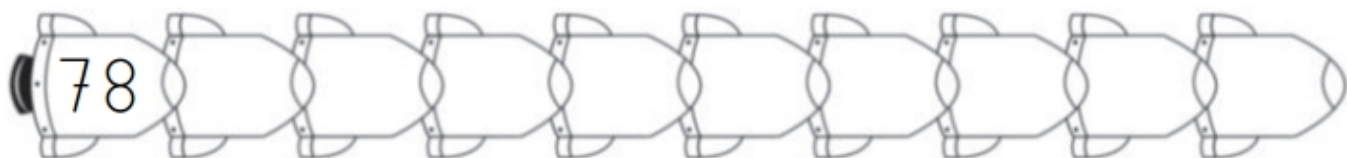




**3** Lee y completa estas series.

- Suma 5.



- Resta 2.



**4** Colorea en cada caso el número mayor.



**5** Calcula.

$$\begin{array}{r} \text{D U} \\ 64 \\ + 11 \\ \hline \square \end{array}$$

$$\begin{array}{r} \text{D U} \\ 40 \\ + 28 \\ \hline \square \end{array}$$

$$\begin{array}{r} \text{D U} \\ 63 \\ - 21 \\ \hline \square \end{array}$$

$$\begin{array}{r} \text{D U} \\ 79 \\ - 54 \\ \hline \square \end{array}$$

$$\begin{array}{r} \text{D U} \\ 64 \\ - 11 \\ \hline \square \end{array}$$

$$\begin{array}{r} \text{D U} \\ 49 \\ - 28 \\ \hline \square \end{array}$$

$$\begin{array}{r} \text{D U} \\ 23 \\ + 41 \\ \hline \square \end{array}$$

$$\begin{array}{r} \text{D U} \\ 54 \\ + 15 \\ \hline \square \end{array}$$

Matemáticas.

Ficha 5. Sumas de 3 números. Peso y capacidad. Problema.

1 Completa y suma.

$$\begin{array}{r} \text{D U} \\ 21 \\ 3 \\ + 32 \\ \hline \square \end{array}$$

$$\begin{array}{r} \text{D U} \\ 23 \\ 14 \\ + 1 \\ \hline \square \end{array}$$

$$\begin{array}{r} \text{D U} \\ 15 \\ 3 \\ + 21 \\ \hline \square \end{array}$$

$$\begin{array}{r} \text{D U} \\ 43 \\ 41 \\ + 5 \\ \hline \square \end{array}$$


$$\begin{array}{r} \text{D U} \\ 33 \\ 11 \\ + 35 \\ \hline \square \end{array}$$

$$\begin{array}{r} \text{D U} \\ 10 \\ 17 \\ + 41 \\ \hline \square \end{array}$$

$$\begin{array}{r} \text{D U} \\ 24 \\ 23 \\ + 31 \\ \hline \square \end{array}$$


$$\begin{array}{r} \text{D U} \\ 44 \\ 22 \\ + 13 \\ \hline \square \end{array}$$

Escribe cuál es el objeto que pesa más.




\_\_\_\_\_

\_\_\_\_\_




\_\_\_\_\_

\_\_\_\_\_



\_\_\_\_\_

\_\_\_\_\_



\_\_\_\_\_

\_\_\_\_\_

**3** Piensa y señala el dibujo correcto.

¿Dónde cabe más?



¿Dónde cabe menos?



Ordena de mayor a menor capacidad.










Si en un barco caben 98 personas pero solo han subido 76, ¿cuántas personas no han cogido el barco?

Datos

Operaciones

Resultado

En el barco caben \_\_\_\_\_ personas.

Subieron \_\_\_\_\_ personas.



D	U


No han cogido el barco \_\_\_\_\_ personas.

Matemáticas.

Ficha 6. Puzle. Mayor y menor.

Recorta las tarjetas de la parte inferior y pégalas en el lugar correspondiente. Después colorea el dibujo.

diecinueve	2 decenas y 8 unidades	6 decenas y 7 unidades	sesenta y seis
$40 + 8$	treinta y nueve	5 decenas	$30 + 2$
cincuenta y uno	$50 + 5$	sesenta	2 decenas y 9 unidades
6 decenas y 1 unidad	4 decenas	treinta y siete	$40 + 9$



Ordena de menor a mayor.

43	44
47	49

 $\square < \square < \square < \square$ 

46	48
56	50

 $\square < \square < \square < \square$ 

3 Ordena de mayor a menor.

39	31
32	23

 $\square > \square > \square > \square$ 

50	41
24	36

 $\square > \square > \square > \square$ 

4 Colorea en cada fila el número que corresponda.

El número mayor

12	21	65	33	
13	45	23	57	60
65	73	48	74	9

El número menor

75	65	68	64	
27	77	33	66	72
26	45	23	46	32

Matemáticas.

Ficha 7. Ordinales. Escritura de números. Serie.



1 ¿En qué vagón van estos objetos?



\_\_\_\_\_

\_\_\_\_\_

\_\_\_\_\_

\_\_\_\_\_

2 Escribe el objeto que elige cada niña y niño.



\_\_\_\_\_

\_\_\_\_\_

\_\_\_\_\_

Ordena del 1.º al 10.º y escribe el siguiente refrán:

10.º mañana.

6.º es

1.º Lo

7.º lo

2.º más

9.º de

4.º de

5.º hoy

3.º nuevo

8.º antiguo

\_\_\_\_\_

\_\_\_\_\_

Completa.

		D	U
15	<i>quince</i>	1	5
20			
21			
26			
28			
35			
40			
61			
76			

Escribe de 6 en 6 hasta el 70.

