

Divisores de un número

Nombre _____ Fecha _____

Recuerda

- Un número b es divisor de otro a si la división $a : b$ es exacta.
- Si b es divisor de a , a es múltiplo de b , y si a es múltiplo de b , b es divisor de a .

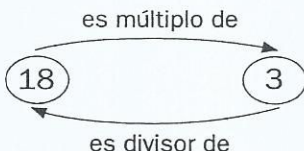
1. En cada caso, rodea tres divisores de cada número.

- De 6 ▶ 0 16 2 4 3 12 1 23 8 5
- De 14 ▶ 7 11 8 2 1 28 34 9 15 42
- De 30 ▶ 5 25 10 9 11 15 8 6 29 83
- De 27 ▶ 1 9 11 27 52 12 21 13 7 15

2. Observa. Después, completa.

$6 \times 3 = 18$


$18 : 6 = 3$




12	7	3
56	21	8
20	5	

- 12 es múltiplo de 3 y 3 es divisor de 12.
- _____ es múltiplo de _____ y _____ es divisor de _____.
- _____ es múltiplo de _____ y _____ es divisor de _____.
- _____ es múltiplo de _____ y _____ es divisor de _____.

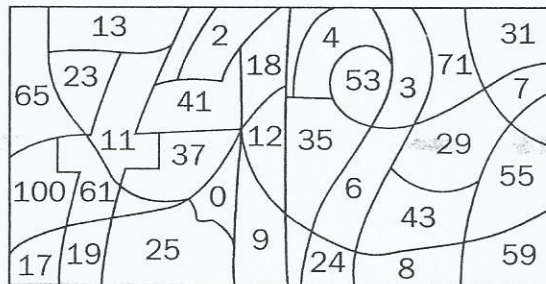
3. Colorea según se indica. Después, contesta.



divisores de 36



divisores de 24



- ¿Qué número te ha salido? _____
- ¿Es ese número divisor de 24 y 36? _____