


Nombre \_\_\_\_\_ Fecha \_\_\_\_\_

**Recuerda**

- Un número mixto está formado por un número natural y una fracción.
- Todas las fracciones mayores que la unidad que no son equivalentes a un número natural se pueden expresar en forma de número mixto.


1. Escribe la fracción que representa la parte coloreada. Después, expresa esa fracción en forma de número mixto.



$$\frac{4}{3} = 1 \frac{2}{3}$$

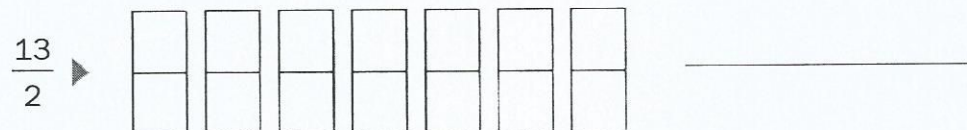
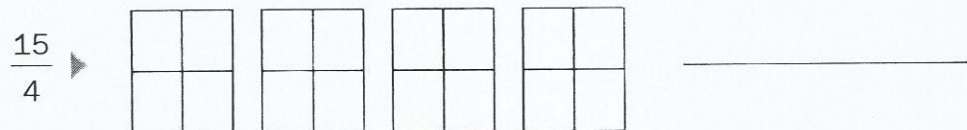

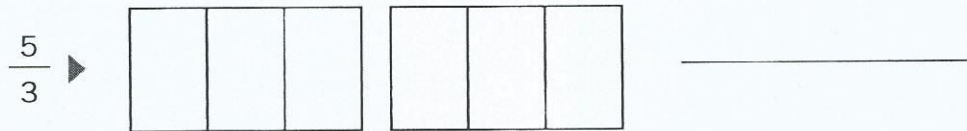


\_\_\_\_\_



\_\_\_\_\_

2. Colorea la fracción que se indica y escríbela en forma de número mixto.



3. Completa.

•  $1 \frac{2}{3} = \frac{5}{3}$

•  $2 \frac{1}{2} = \frac{\quad}{\quad}$

•  $3 \frac{2}{3} = \frac{\quad}{\quad}$

•  $4 \frac{1}{2} = \frac{\quad}{\quad}$

•  $1 \frac{4}{5} = \frac{\quad}{\quad}$

•  $2 \frac{3}{4} = \frac{\quad}{\quad}$

•  $3 \frac{1}{5} = \frac{\quad}{\quad}$

•  $4 \frac{2}{6} = \frac{\quad}{\quad}$