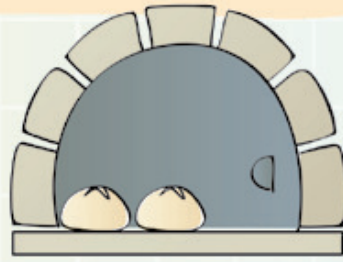


Preparar un pedido


1 Lee y resuelve.

Miguel tiene una panadería y todos los días hace la masa y la reparte para elaborar distintos tipos de barras y panes. Fíjate en los que ha hecho hoy.

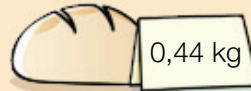
- 15 kg en barras de 0,25 kg
- 17,6 kg en barras de 0,44 kg
- 24,7 kg en panes de 0,65 kg
- 127,50 kg en panes de 0,85 kg



- ¿Cuántas barras de cada peso ha hecho Miguel hoy?



$$15 : 0,25 = 60$$



$$17,6 : 0,44 = 40$$

Ha hecho 60 barras de 0,25 kg.

Ha hecho 40 barras de 0,44 kg.

- ¿Cuántos panes de cada peso ha hecho Miguel hoy?



$$24,7 : 0,65 = 38$$



$$127,50 : 0,85 = 150$$

Ha hecho 38 panes de 0,65 kg.

Ha hecho 150 panes de 0,85 kg.

- ¿Cuántos kilos pesa cada tarta que ha hecho hoy Miguel?



$$2 : 5 = 0,4 \text{ kg}$$



$$3 : 15 = 0,2 \text{ kg}$$



$$5 : 20 = 0,25 \text{ kg}$$