

CIENCIAS SOCIAIS 1

LEMBRA o que xa aprendemos:

1 Que elementos ves nesta paisaxe? Escribe os seus nomes.






Elementos naturais ►

Elementos construídos ►

2 Le e numera segundo corresponda.

1. Nesta paisaxe o terreo é principalmente chan, con algúns outeiros e lombas. Nel adoitan construírse vilas e cidades.
2. Esta paisaxe encóntrase xunto ao mar. Adoita ter moitos habitantes, e nela hai praias e acantilados, cabos e illas.
3. As montañas son o elemento principal desta paisaxe; nela hai poucos habitantes e pódense ver vales, mesetas e bosques.



COMPROBA o que fixeches:

1 Que elementos ves nesta paisaxe? Escribe os seus nomes.





Elementos naturais ► montañas, río.

Elementos construídos ► vila, estrada, ponte.

2 Le e numera segundo corresponda.

1. Nesta paisaxe o terreo é principalmente chan, con algúns outeiros e lombas. Nel adoitan construírse vilas e cidades.
2. Esta paisaxe encóntrase xunto ao mar. Adoita ter moitos habitantes, e nela hai praias e acantilados, cabos e illas.
3. As montañas son o elemento principal desta paisaxe; nela hai poucos habitantes e pódense ver vales, mesetas e bosques.



CIENCIAS SOCIAIS 2

Seguimos repasando aspectos das paisaxes:

2 **Observa e completa.**



Unha montaña é



Unha serra é

3 Observa e une.

meseta



val



outeiro



- Terreo chan situado entre montañas.
- Chaira extensa situada a bastante altura.
- Pequeno monte de formas suaves e onduladas.

4 Debuxa e rotula as palabras destacadas.

- Un bosque na **ladeira**.
- Un castelo na **cima**.
- Unha casa no **pé**.

Intelixencia espacial



COMPROBA o que fixeches:

2 Observa e completa.

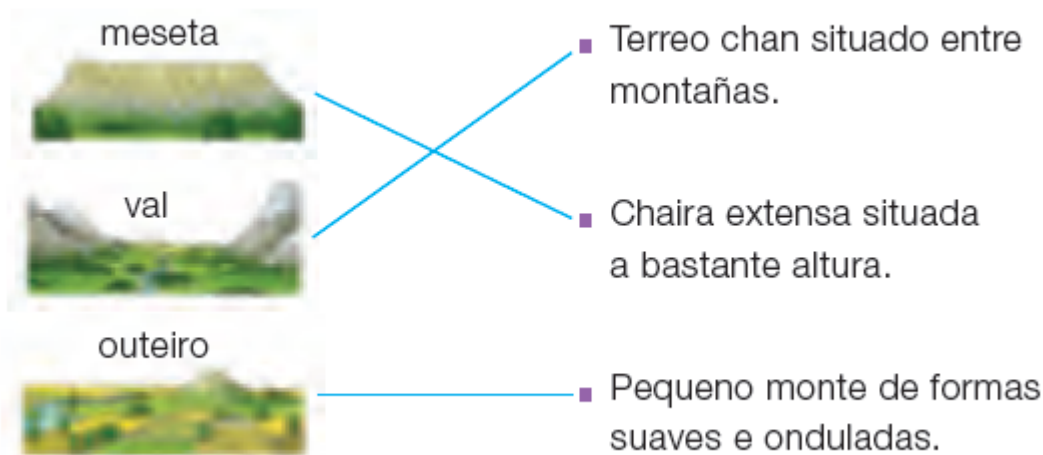


Unha montaña é unha grande
elevación do terreo.



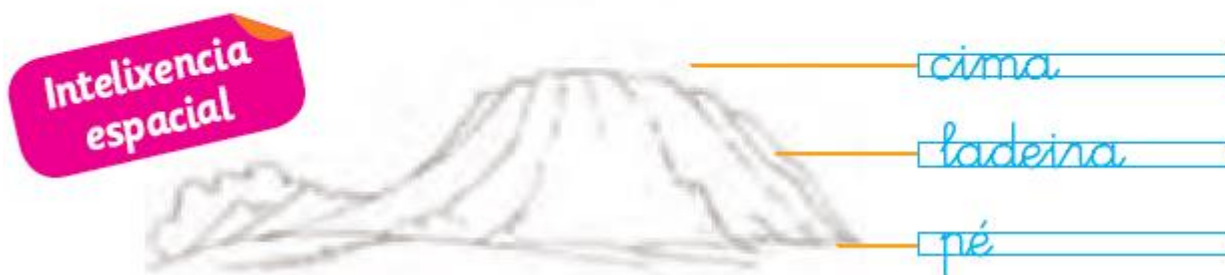
Unha serra é unha agrupación
de montañas.

3 Observa e une.



4 Debuxa e rotula as palabras destacadas.

- Un bosque na **ladeira**.
- Un castelo na **cima**.
- Unha casa no **pé**.



Fonte: Editorial Santillana

Segue a repasar as paisaxes de montaña copiando o seguinte enlace e vendo o vídeo atentamente.

ENLACE: <https://www.youtube.com/watch?v=QZsLWPVgB1c>

CIENCIAS SOCIAIS 3

Le atentamente a seguinte información e observa as fotografías. Nelas descubrirás e repasarás elementos que podes atopar nunha paisaxe de costa.

As paisaxes de costa

A costa é a parte da terra que está preto do mar. Cando a costa é chá, adoita ter amplas **praias** de area. Pola contra, nas zonas de costa onde as montañas chegan ata o mar hai altos **acantilados** de rocha.



Outros elementos da paisaxe costeira son os cabos e as illas.

Un **cabo** é unha ampla porción de terra que entra no mar.

Unha **illa** é unha extensión de terra completamente rodeada polo mar.

Despois de ler atentamente intenta facer as seguintes actividades.
LEMBRA que as podes facer un caderno.

2 Escribe V (verdadeiro) ou F (falso).

- As paisaxes de costa son paisaxes de interior.
- A costa sempre é chá e areenta.
- As illas están completamente rodeadas de auga.
- Un acantilado é unha zona alta e rochosa que está xunto ao mar.
- Na costa viven máis persoas ca nas montañas.

3 Observa e une.



acantilado



Intelix
lingü



faro

cabo

porto



4 A que construción da costa nos referimos en cada caso? Escribe.

A súa luz serve para guiar os barcos durante a noite. ▶

Lugar onde atracan os barcos para cargar e descargar mercadorías. ▶

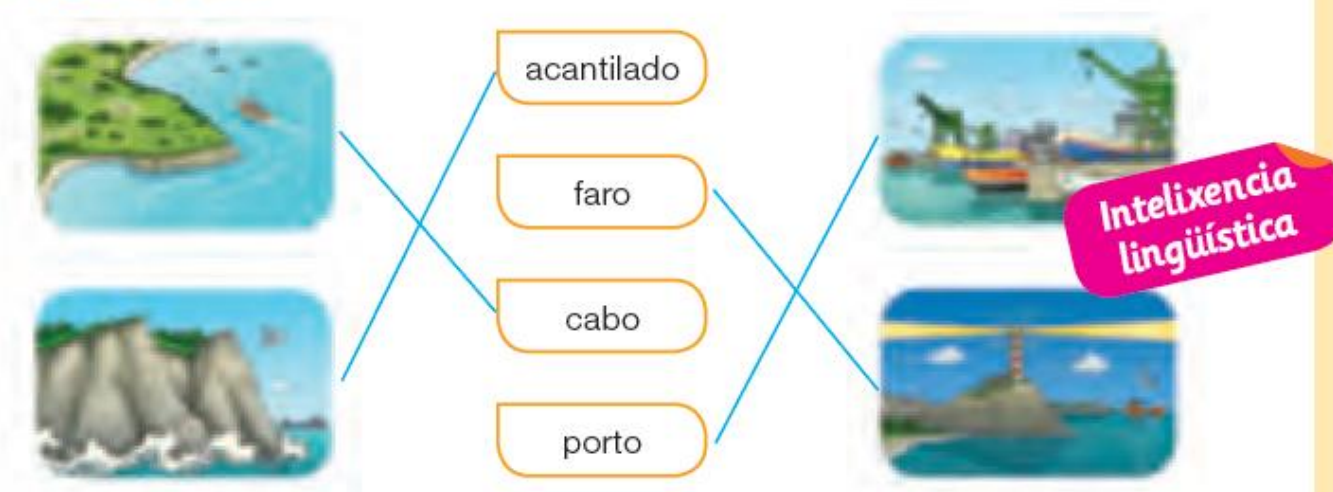
Fonte: Editorial Santillana

COMPROBA o que fixeches:

2 Escribe V (verdadero) ou F (falso).

- F As paisaxes de costa son paisaxes de interior.
- F A costa sempre é chá e areenta.
- V As illas están completamente rodeadas de auga.
- V Un acantilado é unha zona alta e rochosa que está xunto ao mar.
- V Na costa viven máis persoas ca nas montañas.

3 Observa e une.



4 A que construción da costa nos referimos en cada caso? Escribe.

A súa luz serve para guiar os barcos durante a noite.

▶

Lugar onde atracan os barcos para cargar e descargar mercadorías.

▶