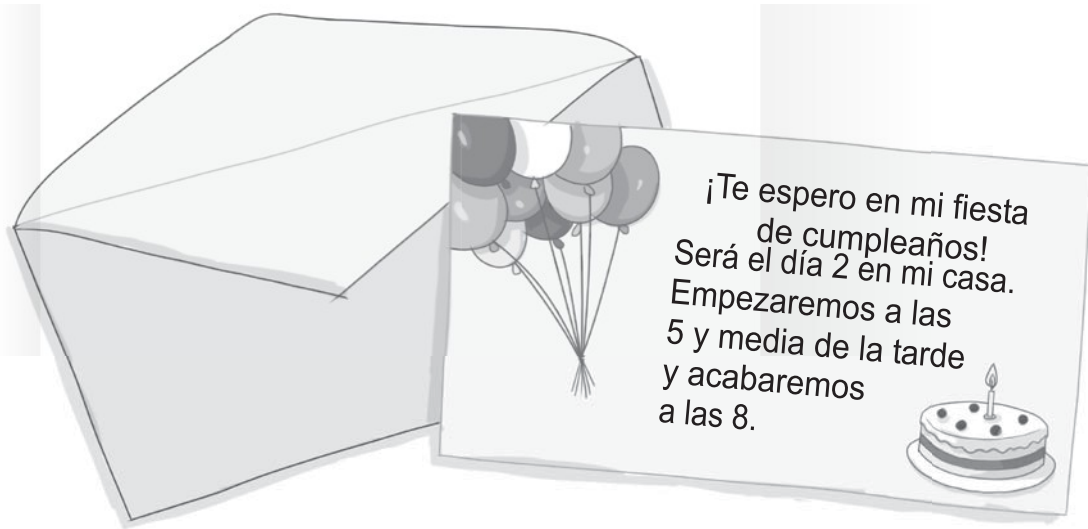


Nombre: Fecha: Curso:



1 Fíjate en esta invitación de cumpleaños de Jaime y resuelve.



- Dibuja en estos relojes a qué hora empieza la fiesta y a qué hora acaba.

Empieza

Acaba



- ¿Cuánto tiempo dura la fiesta?

- ¿A qué hora acabaría la fiesta si durara el doble?

- ¿A cuántas personas quiere invitar Jaime a su fiesta? Calcula.

Compañeros de clase $\rightarrow 4 \times 6 = \dots\dots\dots$ Pandilla del barrio $\rightarrow 6 \times 2 = \dots\dots\dots$ Equipo de fútbol \rightarrow Doble de 7 = $\dots\dots\dots$ Familia \rightarrow Triple de 5 = $\dots\dots\dots$ En total quiere invitar a .