

















Nombre: Fecha: Curso:

1 Fíjate en las horas que marcan estos relojes y colorea el correcto en cada caso.

9 en punto				
11 y cuarto				
6 y media				
10 menos cuarto				

2 Dani y David han participado en una carrera. Dani ha acabado a las 12 y cuarto y su amigo un cuarto de hora después. ¿A qué hora ha acabado David? Dibuja y escribe.



▶ _____

3 Laura tarda 10 minutos en desayunar y su hermano pequeño tarda el doble. Calcula cuánto tiempo tarda su hermano en desayunar.

..... × 10 =

▶ _____