




- El círculo.

La parte interior de una circunferencia es el .....

La circunferencia es el ..... del círculo.

El semicírculo es la ..... de un .....



Nombre: ..... Fecha: .....