

Nombre: _____ Curso: _____ Fecha: _____

Problemas de matemáticas



1. Andrés tiene en la nevera 15 helados. Esta semana se ha comido 7. ¿Cuántos helados le quedan?

datos

operaciones



solución:

www.edufichas.com

2. En una piscina hay 16 niños y se salen 12. ¿Cuántos niños quedan en la piscina?

datos

operaciones



solución:

www.edufichas.com

Nombre: _____ Curso: _____ Fecha: _____

Problemas de matemáticas



3. Si tengo 4 perros, 5 gatos y 12 gallinas,
¿Cuántos animales tengo en total?

datos

operaciones



solución:

www.edufichas.com

4. En el gimnasio de mi colegio hay 14
balones de fútbol y 15 de baloncesto. ¿cuántos
balones hay en total?

datos

operaciones



solución:

www.edufichas.com

Nombre: _____ Curso: _____ Fecha: _____

Problemas de matemáticas



5. María tiene 5 manzanas, Pedro tiene 8 y Susana tiene 9. Si juntan todas las manzanas en una cesta, ¿Cuántas manzanas tienen?

datos

operaciones



solución:

www.edufichas.com

6. Juan tiene 28 magdalenas. Tiene 12 amigos y le da una magdalena a cada uno, y otra para él. ¿Cuántas manzanas quedan?

datos

operaciones



solución:

www.edufichas.com

Nombre: _____ Curso: _____ Fecha: _____

Problemas de matemáticas



7. Si tengo 23 peras, yo me he comido 5 y mi amigo Luis ha comido 7. ¿Cuántas quedan?

datos

operaciones



solución:

www.edufichas.com

8. En un aparcamiento hay 22 coches. Han llegado otros 12 más. ¿Cuántos coches hay ahora?

datos

operaciones



solución:

www.edufichas.com

Nombre: _____ Curso: _____ Fecha: _____


Problemas de matemáticas



9. Tengo una cesta con 17 manzanas. He ido a la frutería. He comprado 8 plátanos y 6 melocotones. ¿Cuánta fruta tengo?

datos

operaciones




solución:

www.edufichas.com

10. En mi jardín hay 7 margaritas, 24 rosas y 8 claveles. Quiero hacer un ramo de flores. ¿Cuántas flores tengo para hacer el ramo?

datos

operaciones



solución:

www.edufichas.com

Nombre: _____ Curso: _____ Fecha: _____

Problemas de matemáticas



11. En un edificio hay 50 ventanas. 36 de las ventanas están abiertas. ¿Cuántas están cerradas?

datos

operaciones



solución:

www.edufichas.com

12. En una frutería había 42 naranjas, pero ya solo quedan 12. ¿Cuántas se han vendido?

datos

operaciones



solución:

www.edufichas.com

Nombre: _____ Curso: _____ Fecha: _____

Problemas de matemáticas



13. En un aparcamiento hay 45 coches rojos, 63 coches blancos y 7 azules. ¿Cuántos coches hay en el aparcamiento?

datos

operaciones



solución:

www.edufichas.com

14. En un bosque había 32 pájaros. Ahora hay 45. ¿Cuántos pájaros han nacido?

datos

operaciones



solución:

www.edufichas.com

Nombre: _____ Curso: _____ Fecha: _____

Problemas de matemáticas



15. He invitado a 36 amigos a mi fiesta de cumpleaños. Ya han llegado 21 amigos.
¿Cuántos faltan por llegar?

datos

operaciones



solución:

www.edufichas.com

16. Sandra tiene 27 Euros. Ha comprado unos lápices y se ha gastado 5 Euros.
¿Cuánto dinero le queda?

datos

operaciones



solución:

www.edufichas.com

Nombre: _____ Curso: _____ Fecha: _____


Problemas de matemáticas



9. Tengo una cesta con 17 manzanas. He ido a la frutería. He comprado 8 plátanos y 6 melocotones. ¿Cuánta fruta tengo?

datos

operaciones




solución:

www.edufichas.com

10. En mi jardín hay 7 margaritas, 24 rosas y 8 claveles. Quiero hacer un ramo de flores. ¿Cuántas flores tengo para hacer el ramo?

datos

operaciones



solución:

www.edufichas.com