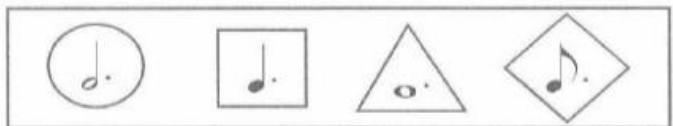


1. Observa atentamente el ejemplo. A continuación, rodea de igual forma las figuras musicales que tengan la misma duración.

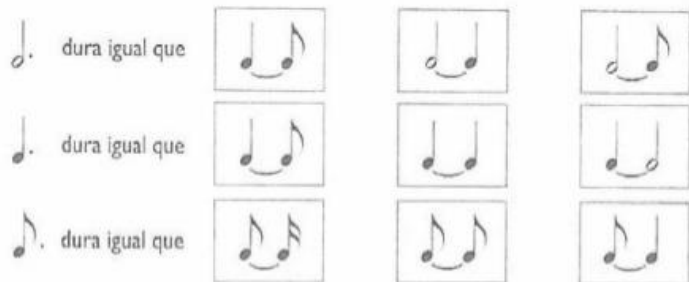
Ejemplo



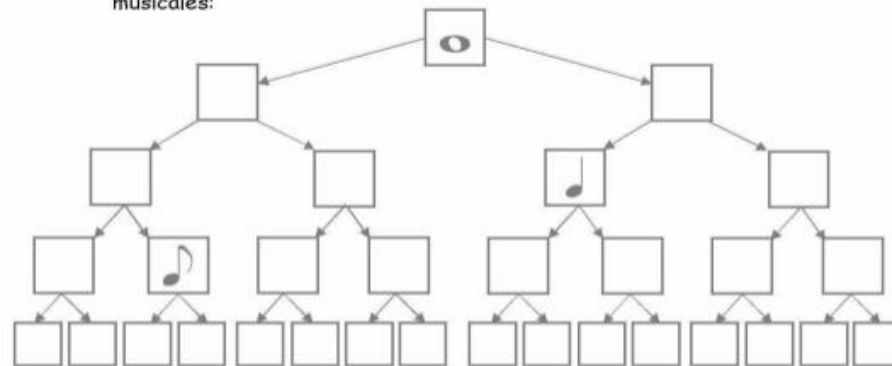
2. Dibuja la figura que dura la mitad.



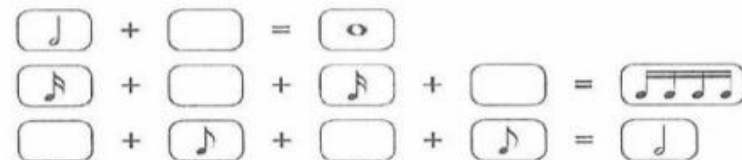
3. Observa atentamente y colorea la caja que contenga la respuesta correcta.



6. Completa el siguiente cuadro teniendo en cuenta el valor de las figuras musicales:



7. Dibuja la figura que falta:



8. A algunos compases de estas frases rítmicas les faltan algunos silencios para estar completos. Escríbelos donde corresponda.

