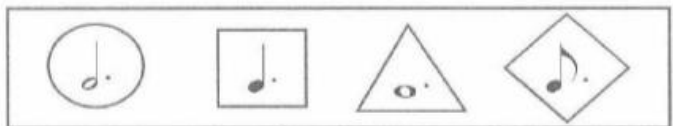


1. Observa atentamente el ejemplo. A continuación, rodea de igual forma las figuras musicales que tengan la misma duración.

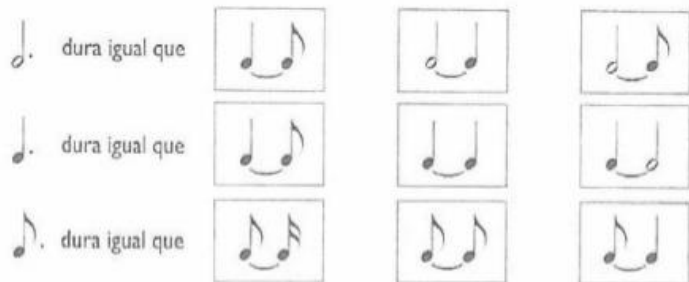
Ejemplo



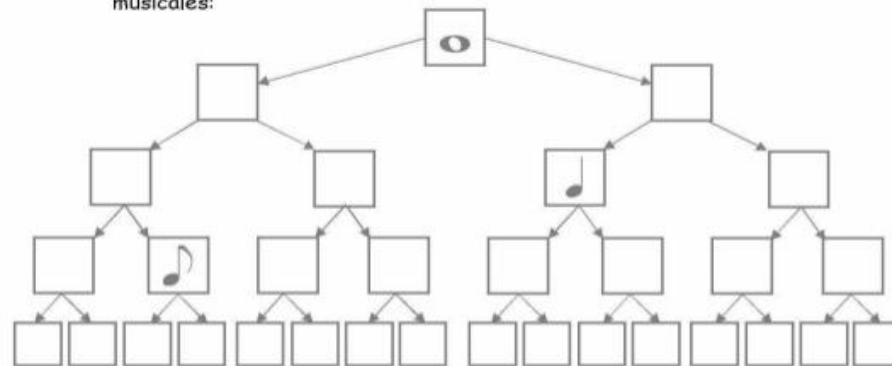
2. Dibuja la figura que dura la mitad.



3. Observa atentamente y colorea la caja que contenga la respuesta correcta.



6. Completa el siguiente cuadro teniendo en cuenta el valor de las figuras musicales:



7. Dibuja la figura que falta:

$$\begin{aligned}
 & \left( \text{quarter note} \right) + \left( \text{empty box} \right) = \left( \text{half note} \right) \\
 & \left( \text{quarter note} \right) + \left( \text{empty box} \right) + \left( \text{quarter note} \right) + \left( \text{empty box} \right) = \left( \text{quarter note beamed with eighth notes} \right) \\
 & \left( \text{empty box} \right) + \left( \text{quarter note} \right) + \left( \text{empty box} \right) + \left( \text{quarter note} \right) = \left( \text{quarter note} \right)
 \end{aligned}$$

8. A algunos compases de estas frases rítmicas les faltan algunos silencios para estar completos. Escríbelos donde corresponda.

