


Nombre:..... Fecha:..... Curso: 4º


1. Definición y representación gráfica del calderón (vale 1 punto: 0,5 la definición y 0,5 la grafía).

2. Escribe las equivalencias rellenando con un número cada casilla. (vale 1 punto: 0,25 cada una)

 = corcheas

 = semicorcheas

 = negras

 = corcheas

3. Relaciona con flechas. (vale 1 punto: 0,25 cada una)



1. Dibuja las semicorcheas siguiendo con el lápiz la línea punteada.

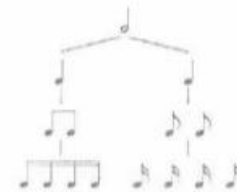


2. Traza el silencio de corchea siguiendo con el lápiz la línea de puntos.



3. Matemáticas Musicales:

Recuerda:



Por lo tanto:

 = corcheas

 = semicorcheas



 = semicorcheas


 = semicorcheas

4. Escribe las equivalencias, rellenando con un número cada casilla.

 = 

 = 

 = 

 = 

5. Une con flechas cada figura musical con su silencio.

