


ACTIVIDADES DE REPASO - SEGUNDO TRIMESTRE

MATEMÁTICAS

1º

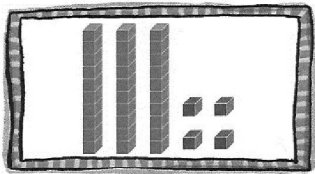
ACTIVIDADES DE REPASO - SEGUNDO TRIMESTRE

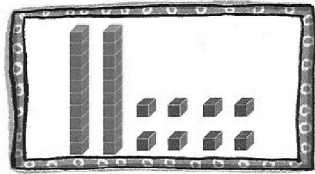
● Une los puntos del 0 al 34 y completa.

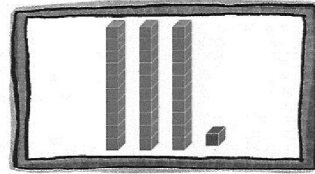



Es un

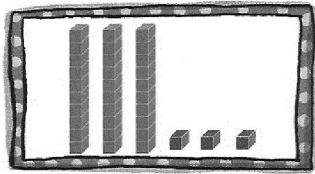
● Cuenta y escribe los números.

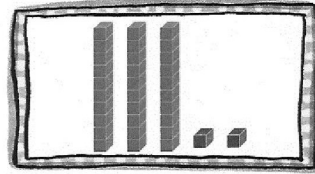












● Escribe los números formados por:





3D y 4U →

2D y 9U →

3D →

ACTIVIDADES DE REPASO - SEGUNDO TRIMESTRE

● Completa la serie y escribe el número que tapa cada animal.

0	1	2							
			13						
20									
									










● Une según corresponda.


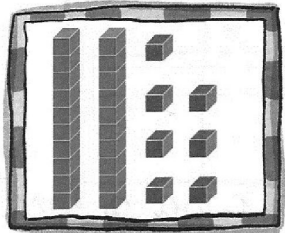



27

36

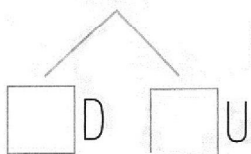
39

37

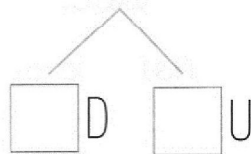


● Escribe las decenas y las unidades de cada número.

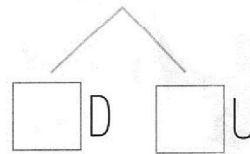
35



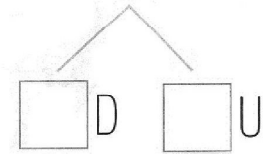
28



39

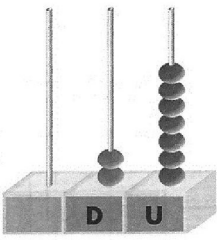


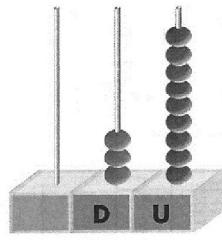
14

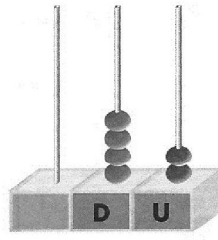


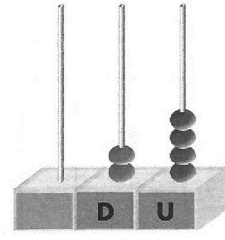
ACTIVIDADES DE REPASO - SEGUNDO TRIMESTRE

● Escribe el número.

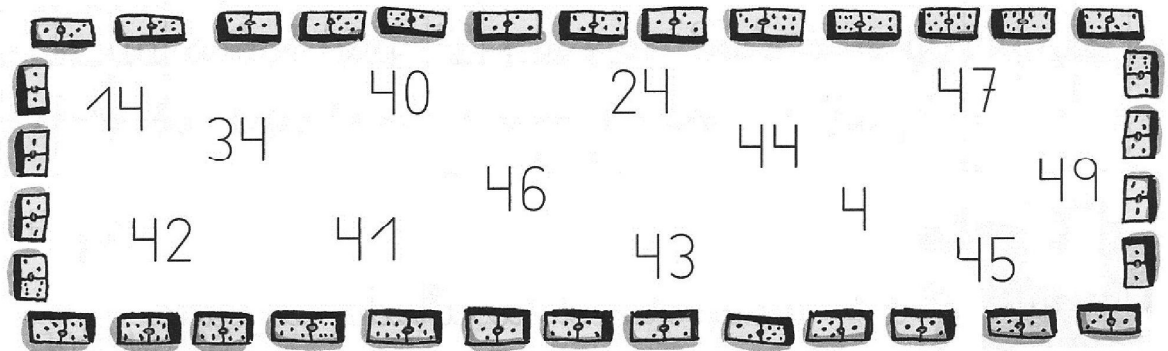




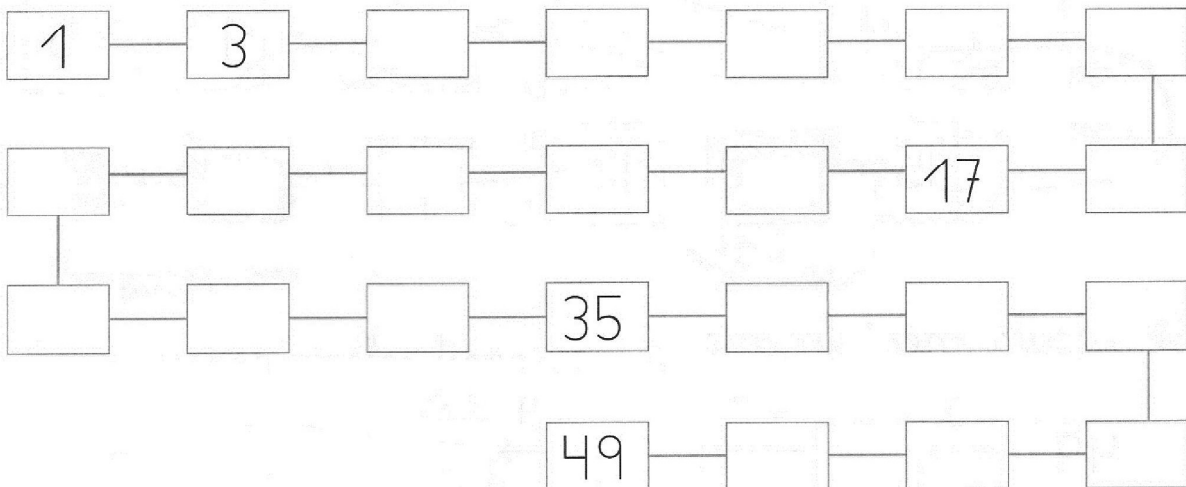




● Rodea y escribe los números que tienen 4 decenas.



● Cuenta de dos en dos.



ACTIVIDADES DE REPASO - SEGUNDO TRIMESTRE


● PROBLEMAS. Resuelve.

- En el nido hay 25 huevos. Nacen 13 pollitos. ¿Cuántos pollitos faltan por nacer?

Huevos →

Nacen →

Faltan pollitos.




- En un árbol hay 12 pájaros. Siete son gorriones, y el resto, canarios. ¿Cuántos canarios hay?

Pájaros →

Gorriones →

Hay canarios.



● Observa y contesta.

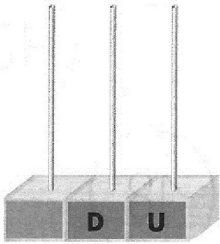


¿Cuántos caramelos tiene el niño?

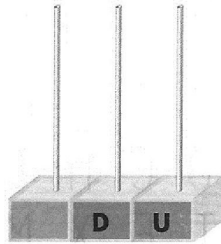
Tiene caramelos.

ACTIVIDADES DE REPASO - SEGUNDO TRIMESTRE

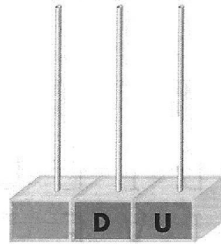
● Dibuja los números.



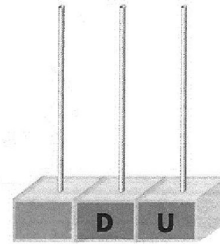
51



59



48



56

● Completa.

cincuenta y cuatro → son 5 D y 4 U.

cuarenta y siete → son D y U.

cincuenta y dos → son D y U.

treinta y seis → son D y U.

cincuenta y cinco → son D y U.

● Escribe los nombres.

51:

57:

53:

ACTIVIDADES DE REPASO - SEGUNDO TRIMESTRE

- Rodea los números que tengan 5 decenas.

50 - 34 - 25 - 53 - 58 - 15 - 57 - 54

- Piensa y completa.

Tengo 50 decenas y 9 unidades. →

Me falta una unidad para el 58. →

Tengo una decena más que el 29. →

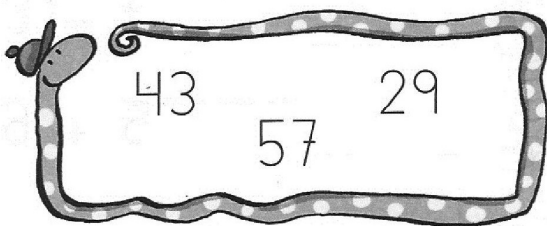
Tengo dos 5 repetidos. →

Tengo tres decenas exactas. →

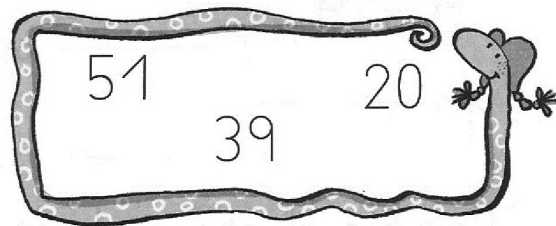
Tengo 5 decenas y 6 unidades. →

- Rodea el número que corresponda.

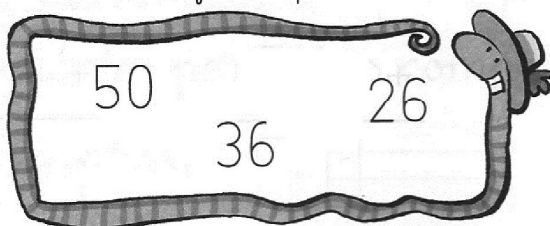
Es mayor que 48.



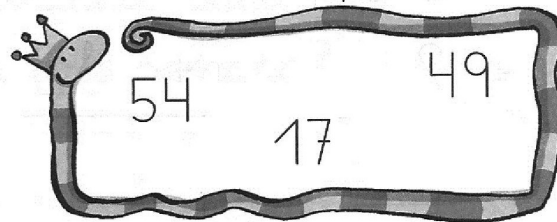
Es menor que 25.



Es mayor que 38.



Es menor que 48.



ACTIVIDADES DE REPASO - SEGUNDO TRIMESTRE

- Escribe el nombre del número anterior y el del número posterior.

<input type="text"/> <input type="text"/> <input type="text"/>	←	9	→	<input type="text"/> <input type="text"/> <input type="text"/>
<input type="text"/> <input type="text"/> <input type="text"/>	←	14	→	<input type="text"/> <input type="text"/> <input type="text"/>
<input type="text"/> <input type="text"/> <input type="text"/>	←	29	→	<input type="text"/> <input type="text"/> <input type="text"/>
<input type="text"/> <input type="text"/> <input type="text"/>	←	41	→	<input type="text"/> <input type="text"/> <input type="text"/>

- Elige y escribe los números anteriores y posteriores.

30 - 31 - 33 - 34

← 32 →

54 - 57 - 55 - 52

← 56 →

47 - 50 - 48 - 51

← 49 →

19 - 33 - 22 - 20

← 21 →

- Escribe estos números:

Tiene cuatro decenas . Su número anterior es

Tiene 5 D . Su número posterior es .

Tiene 3 D y 9 U . Su número anterior es

y el posterior es .



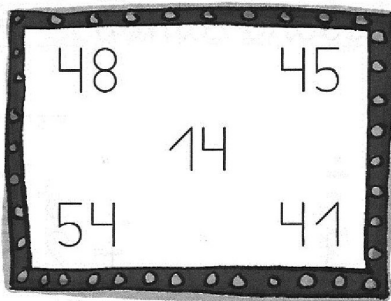
ACTIVIDADES DE REPASO - SEGUNDO TRIMESTRE

- Rodea los números que tienen:

4 decenas

5 decenas

6 decenas



- Escribe el número que falta.

cincuenta y nueve → ← sesenta y uno

veintinueve → ← treinta y uno

sesenta y tres → ← sesenta y cinco

sesenta y seis → ← sesenta y ocho

- Tacha los números mayores que 50 y colorea los menores que 40.

57 5 68 51 36 62 28

14 64 16 39 59 35 60

- Cuenta hacia atrás.

69 68 60

ACTIVIDADES DE REPASO - SEGUNDO TRIMESTRE

● Suma.

$$\begin{array}{r} 25 \\ + 29 \\ \hline \square \end{array}$$

$$\begin{array}{r} 38 \\ + 26 \\ \hline \square \end{array}$$

$$\begin{array}{r} 35 \\ + 17 \\ \hline \square \end{array}$$

$$\begin{array}{r} 18 \\ + 42 \\ \hline \square \end{array}$$

$$\begin{array}{r} 19 \\ + 27 \\ \hline \square \end{array}$$

$$\begin{array}{r} 48 \\ + 15 \\ \hline \square \end{array}$$

$$\begin{array}{r} 27 \\ + 33 \\ \hline \square \end{array}$$

$$\begin{array}{r} 32 \\ + 29 \\ \hline \square \end{array}$$

● Une cada suma con su resultado.

$7 + 8$	14	}	$9 + 5$	14	}	12
$7 + 8$	16		$9 + 5$	15		13
	15			16		14

● Completa.

40

50

60

$20 + \square$
$\square + 10$
$30 + \square$

$40 + \square$
$20 + \square$
$10 + \square$

$30 + \square$
$\square + 20$
$10 + \square$

ACTIVIDADES DE REPASO - SEGUNDO TRIMESTRE


● **PROBLEMAS.** Resuelve.

- En el parque hay 25 castaños. Plantan 19 chopos.
¿Cuántos árboles hay ahora?

<input type="text"/>	→	<input type="text"/>
<input type="text"/>	→	<input type="text"/>
<input type="text"/>	→	<input type="text"/>
<input type="text"/>	→	<input type="text"/>
Hay <input type="text"/> árboles.		



- ¿Cuántas naranjas hay en la frutería?



Traigo veintinueve naranjas.

<input type="text"/>	→	<input type="text"/>
<input type="text"/>	→	<input type="text"/>
<input type="text"/>	→	<input type="text"/>
<input type="text"/>	→	<input type="text"/>
Hay <input type="text"/> naranjas.		

● **Contesta.**

Yo tengo años. Mi hermano Luis tiene 6 años más que yo.

Mi hermano Luis tiene años.