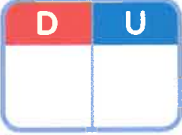









4 Completa.

$30 + 5 = 35$   

$50 + 7 = \square$   

$70 + 9 = \square$   

$90 + 8 = \square$   

5 Relaciona.


veintinueve	$40 + 3$	$6D + 2U$
cuarenta y tres	$60 + 2$	$4D + 3U$
sesenta y dos	$20 + 9$	$8D + 7U$
ochenta y siete	$80 + 7$	$2D + 9U$

*Note: A dashed arrow points from 'veintinueve' to  $20 + 9$ .*


6 ¿Quién tiene más años? Observa y completa.



Elsa  $\rightarrow$



Mario  $\rightarrow$



David  $\rightarrow$

Tiene más