


FICHA 1. Decenas y unidades

1 Cuenta y completa.




decena y unidades

$$\square + \square = \square$$



decena y unidades


$$\square + \square = \square$$



decenas y unidades


$$\square + \square = \square$$

2 Haz grupos de 10 y completa.



decenas y unidades

$$\square + \square = \square$$



decenas y unidades

$$\square + \square = \square$$

3 Completa la serie.

