


Nombre _____


Fecha _____

RECUERDA

1 décima se escribe así:

$$\frac{1}{10} \text{ o } 0,1$$





↑ Fracción ↑ Decimal



1 centésima se escribe así:

$$\frac{1}{100} \text{ o } 0,01$$

↑ Fracción ↑ Decimal

1 ¿Cuántas décimas son? Cuenta y escribe la fracción correspondiente.... décimas ► $\frac{\dots}{\dots}$ ... décimas ► $\frac{\dots}{\dots}$ ... décimas ► $\frac{\dots}{\dots}$ ... décimas ► $\frac{\dots}{\dots}$ **2** ¿Cuántas centésimas son? Cuenta y escribe la fracción correspondiente.... centésimas ► $\frac{\dots}{\dots}$ ... centésimas ► $\frac{\dots}{\dots}$ ... centésimas ► $\frac{\dots}{\dots}$ ... centésimas ► $\frac{\dots}{\dots}$ **3** Escribe en forma de número decimal.**RECUERDA**

$$\bullet \frac{1}{10} = 0,1$$

$$\bullet \frac{1}{100} = 0,01$$

$$\bullet \frac{2}{10} = \dots$$

$$\bullet \frac{4}{10} = \dots$$

$$\bullet \frac{6}{10} = \dots$$

$$\bullet \frac{8}{10} = \dots$$

$$\bullet \frac{3}{100} = \dots$$

$$\bullet \frac{5}{100} = \dots$$

$$\bullet \frac{7}{100} = \dots$$

$$\bullet \frac{9}{100} = \dots$$

4 Escribe en forma decimal.

• 5 décimas ►

• 7 décimas ►

• 4 centésimas ►