


Nome \_\_\_\_\_

Data \_\_\_\_\_

**REPASA ESTA INFORMACIÓN.**

O planeta Terra está formado por catro capas relacionadas entre si: a **atmosfera**, a **xeosfera**, a **hidrosfera** e a **biosfera**.

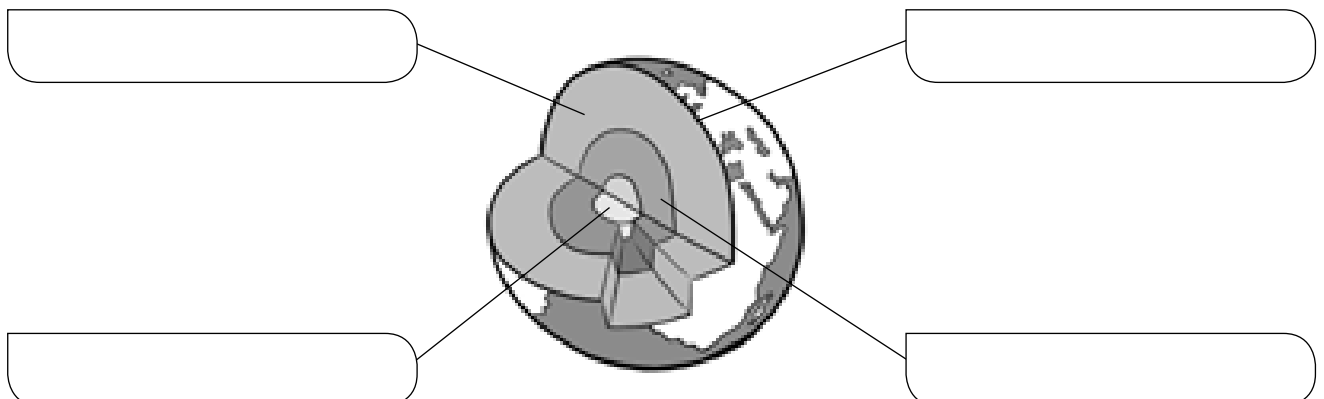
**1** Fai o debuxo o nome das distintas capas da Terra.



**2** Escribe e indica que afirmacións fan referencia á hidrosfera (H) ou á xeosfera (X).

- É o conxunto das augas do planeta.
- Está formada por tres capas.
- É a parte rochosa do planeta.
- Os estados da auga son sólido, líquido ou gasoso.

**3** Debuxa e escribe as capas da xeosfera no lugar que corresponda.



Nome \_\_\_\_\_

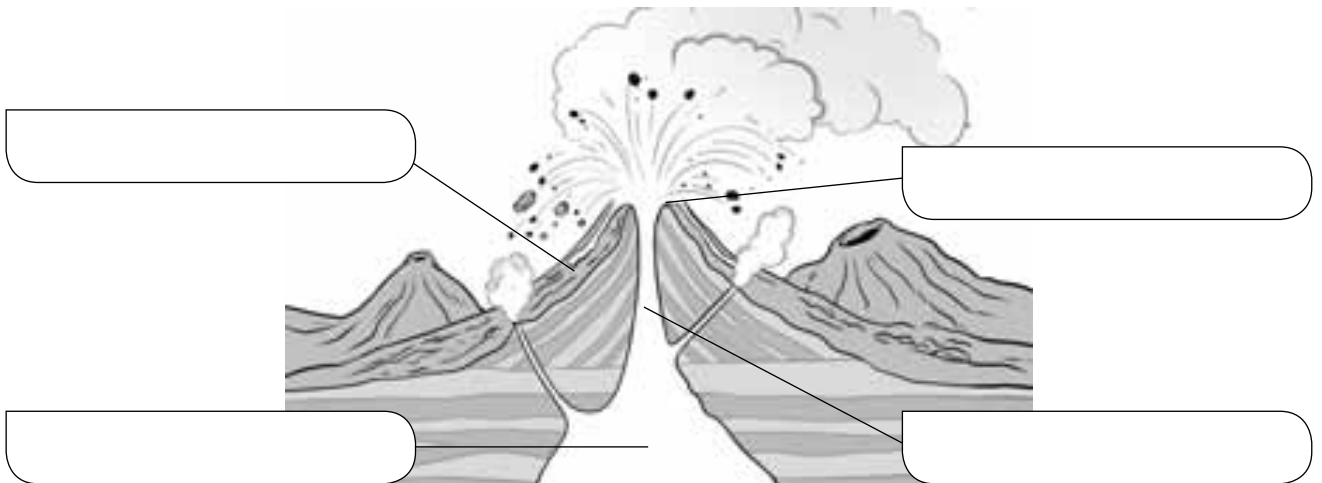
Data \_\_\_\_\_

### REPASA ESTA INFORMACIÓN.

A codia terrestre cambia polos **terremotos** e **volcáns**, e pola acción da erosión, o transporte e a sedimentación.

### 1 Debuxa e sitúa estes elementos dun volcán onde corresponda.

cámara magmática – cheminea – cráter – cono volcánico



### 2 Que diferenzas existen entre a erosión e a sedimentación?

---

---

---

---

### 3 Indica como se forman as rochas magmáticas e as rochas sedimentarias.

---

---

---

---