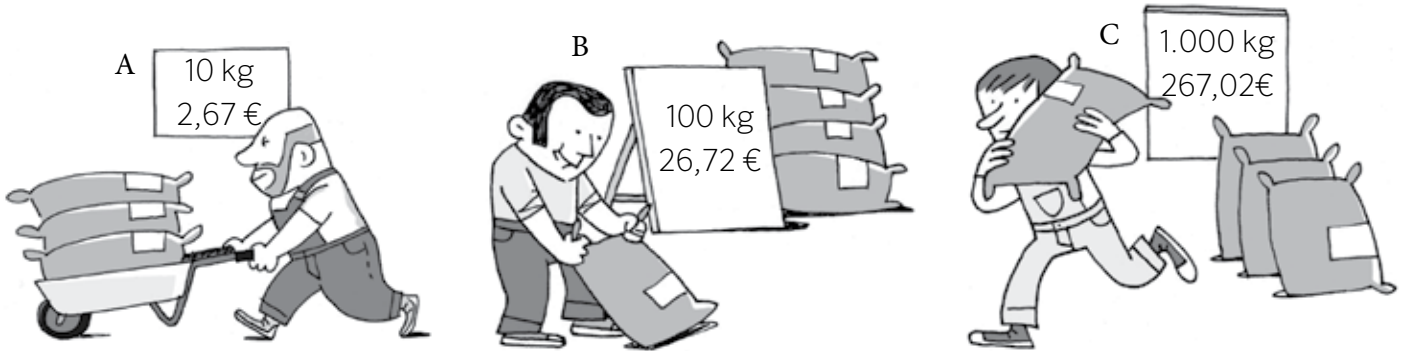


8 ¿Qué agricultor vende más barato el kilo de trigo? Explica cómo lo has averiguado.




9 Cristina ha comprado 6 pares de calcetines negros a 14,4 € y 3 pares de calcetines blancos a 6,9 €.


a) ¿Cuál es el precio de un par de calcetines blancos? ¿Y el de un par de calcetines negros?

b) ¿Cuál sería el precio total de siete pares de calcetines negros y una decena de blancos?

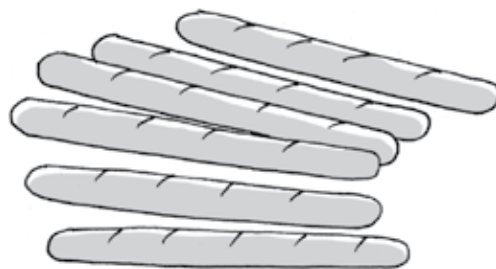
10 ¿Cuántas botellas como las de la imagen pueden llenarse con tres garrafas de 8,5 litros?



- 11 Para el cumpleaños de Aitor, 4 amigos le regalarán esta camiseta. Si quieren pagarlo a partes iguales, ¿cuánto dinero debe poner cada uno aproximadamente? Explica cómo lo has averiguado.



- 12 Si Cristina ha pagado 6,3 € por estas barras de pan, ¿cuánto cuesta una barra? ¿Tendría suficiente dinero con 20 € para pagar 15 barras de pan? ¿Cuánto le sobraría o le faltaría?



- 13 Si cada botella de aceite cuesta 3,09 € y cada cartón de leche cuesta 0,95 €, ¿cuál es el precio total de la compra, aproximadamente?



- Calcula el precio exacto de la compra anterior.