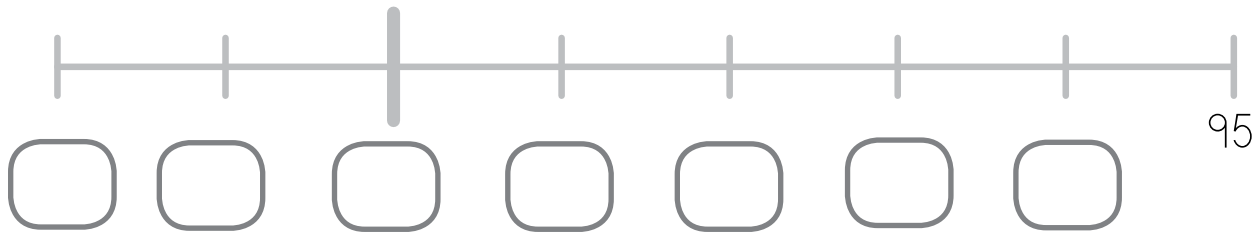




Nombre: Fecha: Curso:

- 1 Copia en tu cuaderno, completa la recta numérica y resuelve.



- Rodea el número que es mayor que 94.
- Escribe con letra los números que están entre el 88 y el 91.


| |
|--|
| |
| |
| |

| |
|--|
| |
| |
| |


- Tacha el número en el que la cifra de las decenas es menor que la de las unidades.
- ¿Cuál es el número anterior? ¿Y el posterior?

- 2 Dibuja en tu cuaderno lo que medirías con cada unidad de medida.

palmas



pasos



pies

