

Martes 28 de abril de 2020

• Matemáticas:

Ficha  
**18**

Operaciones

Nombre \_\_\_\_\_ Fecha \_\_\_\_\_

1. Multiplica.

$\begin{array}{r} 3,45 \\ \times 0,18 \\ \hline \end{array}$	$\begin{array}{r} 340 \\ \times 0,25 \\ \hline \end{array}$	$\begin{array}{r} 12,3 \\ \times 0,03 \\ \hline \end{array}$	$\begin{array}{r} 8,956 \\ \times 14 \\ \hline \end{array}$
$\begin{array}{r} 4270 \\ \times 40,6 \\ \hline \end{array}$	$\begin{array}{r} 791,1 \\ \times 2,3 \\ \hline \end{array}$	$\begin{array}{r} 106,8 \\ \times 23,5 \\ \hline \end{array}$	$\begin{array}{r} 1230 \\ \times 0,0004 \\ \hline \end{array}$

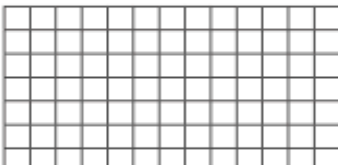
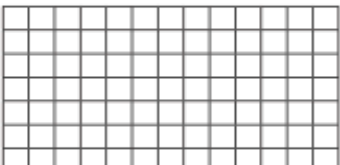

2. Multiplica.

- $5,2 \times 1.000 =$  \_\_\_\_\_
- $3,4 \times 100 =$  \_\_\_\_\_
- $2,54 \times 10 =$  \_\_\_\_\_
- $9,458 \times 100 =$  \_\_\_\_\_
- $32,58 \times 10 =$  \_\_\_\_\_
- $7,56 \times 1.000 =$  \_\_\_\_\_
- $23,8 \times 10 =$  \_\_\_\_\_
- $6,07 \times 100 =$  \_\_\_\_\_
- $56,001 \times 100 =$  \_\_\_\_\_

3. Completa con los siguientes números.

- 2,3    9,4    3,15    10    5    2,46
- $56,06 \times \square = 560,6$
  - $42,8 \times \square = 98,44$
  - $3,083 \times 3,05 = \square$
  - $\square \times 19,462 = 47,87652$

4. Coloca y multiplica.

$95,625 \times 3,64$	$0,1489 \times 37$	$708,35 \times 30,5$
		

• Lingua galega e literatura:

Ficha

**4**

**Análise gramatical**

Nome \_\_\_\_\_

Data \_\_\_\_\_

**1. Subliña os numerais do seguinte texto.**

Vai comezar a carreira! As oito corredoras están preparadas. Un, dous, tres! Xa! Margarida, que sae de cuarta, adianta coma un foguete as súas rivais e..., Margarida entra na meta primeira e Lucía, segunda! Por quinto ano consecutivo, a medalla de ouro é para Margarida.

**2. Clasifica os numerais que subliñaches na seguinte táboa.**

Cardinals	Ordinals
_____	_____
_____	_____
_____	_____
_____	_____

**3. Arrodea os indefinidos que aparecen nestas oracións.**

- Que ningunha persoa saia antes de rematar.
- Perdemos toda a tarde intentando resolver ese xeroglífico.
- Creo que ten poucas ganas de ir ao cine e moitas de quedar na casa.
- Esa camiseta ten demasiadas cores, non me gusta nada.
- Faltou á clase varios días por mor da gripe.
- Estiven en Santiago de Compostela moitas veces.

**4. Analiza os indefinidos que subliñaches. Para iso, sigue o exemplo.**

	Clase de palabra	Xénero	Número
<i>ningunha</i>	<i>indefinido</i>	<i>feminino</i>	<i>singular</i>

- Ciencias Sociais:

Cando estivemos no cole traballamos os sectores de produción de Europa e de España. Espero que sexades capaces de responder as seguintes preguntas:

- Que actividades se inclúen no sector primario? E no secundario? E no terciario?
- Cal é o sector que ten maior incidencia en España? Por que crees que pode ser?
- En Galicia é o mesmo? Por que?
- Que tipos de agricultura existe? Cales son os cultivos que máis abundan en Galicia?
- Por que crees que é importante o sector primario?